



جامعة البصرة  
كلية الإدارة والاقتصاد  
قسم العلوم المالية والمصرفية

أسئلة الامتحانات النهائية  
للدراستات الصباحية والمسائية

الدور الثاني

للعام الدراسي

2023/2022

# المرحلة الأولى

المرحلة : الأولى  
مادة : مبادئ الاقتصاد  
التاريخ : 23 / 8 / 2023  
الوقت : ساعتان فقط



جامعة البصرة  
كلية الإدارة والاقتصاد  
قسم العلوم المالية والمصرفية  
الدراسات الصباحية والمسابية

أسئلة الامتحان النهائي للكورس الأول الدور ( الثاني ) للعام الدراسي 2022/2023

اسم الطالب..... الشعبة والرقم.....

الإجابة عن اربع أسئلة فقط لكل سؤال (١٢,٥) درجة

س<sup>١</sup>: أ- يمثل علم الاقتصاد بشكله الحديث نتاج مجموعة كبيرة من النظريات الاقتصادية، المطلوب: وضع ما المقصود بالنظرية الاقتصادية.

ب- يمثل الطلب للتعبير الاقتصادي العملي عن الاحتياجات البشرية المتعددة، المطلوب: وضع قانون الطلب وما هي حالات زيادة الطلب على السلعة مع الرسم.

س<sup>٢</sup>: أ- تعد طريقة القيمة المضافة احدى الطرائق المستخدمة في احتساب الناتج القومي. المطلوب: وضع بالتفصيل كيفية احتساب الناتج وفق هذه الطريقة.

ب- تعد الموارد الاقتصادية بانها احد عنصري المشكلة الاقتصادية، المطلوب: وضع بالتفصيل مفهوم واتواع الموارد الاقتصادية.

س<sup>٣</sup>: أ- وضع بالتفصيل الفرق بين الناتج القومي الاجمالي بسعر السوق والناتج القومي الاجمالي بسعر تكلفة عناصر الانتاج.

ب- تؤكد نظرية العرض من السلع والخدمات على التمييز بين مفهومين رئيسين في تحليل هذه النظرية هما العرض والكمية المعروضة.

المطلوب: 1- ما المقصود بمفهوم العرض وكيف يحدث التغير فيه.

2- ما هي الحالات التي تؤدي الى التغير نحو الخفاض العرض.

3- ارسم شكلاً بيانياً يوضح حالة الاتخفاض في العرض.

س<sup>٤</sup>: أ- توجد مفاهيم مختلفة للدخل القومي تستخدم في قياس اداء النشاط الاقتصادي للدولة ومن هذه المفاهيم الدخل الشخصي، المطلوب: وضع بالتفصيل ما المقصود بالدخل الشخصي ، وما هي مكوناته مستعيناً بالمعادلات الرياضية ان وجدت.

ب- تؤكد نظرية العرض ان السياسات الاقتصادية الحكومية تعد احد العوامل المؤثرة في العرض

من سلعة معينة، المطلوب: وضع بالتفصيل كيف تؤثر هذه السياسات في العرض من السلعة.

س<sup>٥</sup>: ضع علامة ( صح ) أو ( خطأ ) أمام العبارات التالية:

١- عدم احتساب السلع الوسيطة غير المستخدمة في الإنتاج ضمن مكونات الناتج القومي الإجمالي في سنة إنتاجها.

٢- تنتقل الكمية المطلوبة من سلعة معينة من نقطة إلى أخرى على منحني الطلب نفسه عند تغير نظر المستهلك النقدي.

٣- في حالة توقع المنتجين ارتفاع اسعار السلعة في المستقبل فانه يؤدي إلى انتقال منحني العرض نحو اليسار.

٤- في دولة ما بلغ الناتج القومي الإجمالي بسعر السوق 687 مليون دولار، وبلغت قيمة اندثار رأس المال 19 مليون، بينما بلغت الضرائب غير المباشرة 12 مليون، لئان فإن الناتج القومي الصافي بسعر السوق هو 668 مليون.

٥- أدى ظهور الابتكارات العلمية الحديثة في المجتمعات إلى إعطاء الحاجات البشرية صفة الدورية.

٦- إن انخفاض سعر سلعة معينة مع ثبات أسعار السلع البديلة لها يؤدي إلى زيادة الطلب على السلع البديلة.

٧- من قاعدة بيانات الحسابات القومية للدولة يتم الحصول على اندثار رأس المال من خلال طرح الناتج القومي الصافي من الناتج القومي الإجمالي.


٨- تدخل الفوائد التي تدفع على رأس المال المستخدم من قبل المقترضين ضمن عناصر الدخل القومي.

مع تمنياتنا لكم بالتوفيق والنجاح



أ. د ندوة هلال جودة

مدرس المادة



أ. د منتظر فاضل سعد

رئيس القسم



م. د هادي عبد الواحد جياذ

مدرس المادة



م. د ازهار عبد اللطيف

مدرس المادة





ملاحظة : الاجابة عن خمسة اسئلة فقط

(10 درجات)

س1/ اختر الإجابة الصحيحة لما يلي :

1- معلم في مدرسة يريد أن يعرف رأي طلبة صفه في مستوى تكريس أحد المعلمين . فإذا كان عدد الطلبة في صفه 30 طالب فإذا ما تم سحب عينة منتظمة بحجم 3 من هذا المجتمع على فرض انه اختار بصورة عشوائية الطالب 3 كبدائية . فان العينة هي العناصر ذات الارقام:

a- ( 3 , 12 , 21 )      b- ( 3 , 13 , 23 )      c- ( 3 , 15 , 27 )      d- غير ذلك

2 - ان طول الفئة في الجدول التالي تساوي:

الفئات	10-				
مراكز الفئات	13	20	27	34	41
a- 5	b- 6	c- 7	d - غير ذلك		48

3- اذا كانت لديك البيانات التالية ( 50 , 40 , 60 , 20 ) فان قيمة العدى هي :

a-40      b- 30      c- 20      d- غير ذلك

4- اذا كان لديك البيانات التالية ( 6, 6, 3, 5, 2, 4, 2, 5 ) فان الوسيط هو:

a-4      b-5      c- 6      d- غير ذلك

5- ان الوسط الحسابي للبيانات التالية ( 7, 2, 5, 6, 9 ) هو :

a-5      b-6      c- 7      d- غير ذلك

س2/ اعرض البيانات الآتية في جدول توزيع تكراري ذو فئات متساوية عددها 4 ، ثم جد التكرار المتجمع الترتول للجدول . ( 37 , 38 , 43 , 46 , 37 , 44 , 39 , 37 , 42 , 38 , 45 , 38 , 48 , 43 , 42 ) (10 درجات)

(10 درجات)

س3/ تم حساب الوسط الحسابي لجدول التوزيع التكراري التالي:

الفئات	3-5	6-8	9-11	12-14	المجموع
التكرارات $f_i$	5	7	6	4	-

فكانت قيمته 8.35 وان  $\sum Y_i f_i = 167$  المطلوب :



جامعة البصرة/ كلية الادارة والاقتصاد  
قسم العلوم المالية  
الامتحان النهائي-الفصل الاول -احصاء I  
العام الدراسي 2022 – 2023-الدور ( الربيع )  
التاريخ 2023/ 8/26 - مدة الامتحان ساعتان



ملاحظة : الاجابة عن خمسة اسئلة فقط.

جد قيمة مجموع التكرارات 2-جد قيمة  $\bar{Y}$  3-جد مراكز الفئات 4-جد التكرار النسبي 5-التكرار المتجمع

(10 درجات)

4/ جد قيمة العنوال لجدول التوزيع التكراري التالي:

الفئات	3-1	5-3	7-5	9-7
التكرار	6	9	5	6

(10 درجات)

5/ اجب بكلمة صح او خطأ للعبارات التالية:

عدد الطلاب يعتبر من المتغيرات المستمرة .

تعتمد العينة المنتظمة على تقسيم المجتمع الإحصائي إلى طبقات.

النوسيط للبيانات التالية (5,2,6,3,4) هو 4.

العنوال للبيانات التالية (2,6,5,3,2,4,2,5,6) هو 5.

ان طول الفئة في الجدول التالي هي 5 .

الفئات	13	20	27	34	41	48
-10						

6/ كلية تحتوي على 1000 طالب ومكونة من 4 أقسام حجم كل قسم كما يلي: ( 10 درجات )

القسم	القسم الاول	القسم الثاني	القسم الثالث	القسم الرابع
Ni	100	X	500	200

جد قيمة  $\bar{x}$  2 - اذا علمت ان  $n=10$  جد قيمة  $n$  ثم بين كيف يتم سحب عينة طبقية من هذه الكلية بحيث تمثل هذه العينة المجتمع تمثيلاً سليماً.

مع تمنياتنا بالنجاح

رئيس القسم

مدرس المادة


مدرس المادة

أ.د. منتظر فاضل

أ.د. هجره حسين رين

أ.د. ريسان عبد الامام

المادة : مبادئ المحاسبة  
المرحلة : الاولى  
الوقت : ساعتان  
التاريخ : ٢٠٢٣ / ٧ / ٢٦



جامعة البصرة  
كلية الإدارة والاقتصاد  
قسم العلوم المالية والمصرفية  
الدراسات الصباحية والمسائية

اسئلة الامتحانات النهائية للكورس الاول / الدور (البرس) للعام الدراسي ٢٠٢٣-٢٠٢٢

ملاحظة: الاجابة عن اربعة اسئلة فقط (( توزع الدرجات بالتساوي )) .

س١/ اجب عن فرعين ممايتي :

- ا- اشرح بصورة دقيقة وعلمية مرحلة تسجيل العمليات المالية في دفتر اليومية ومرحلة ترحيل وترصيد العمليات المالية في سجل الأستاذ العام .
- ب- ماذا نعني بالميزانية العمومية وماهي اهم عناصرها ؟ وضع ذلك بالتفصيل .
- ج- هنالك بعض المعايير التي يستخدمها المحاسبين للتمييز بين المصروفات الايرادية والراسمالية . ماهي تلك المعايير ؟

س٢/ مما يلي قائمة المركز المالي لاحدى المنشآت التجارية في ٢٠١٧/٦/١

اثاث 3,000,000	راس المال 13,000,000
بضاعة 2,500,000	داننون 4,000,000
مدينون 4,000,000	قروض 2,000,000
صندوق 5,000,000	
مصرف 4,500,000	
19,000,000	19,000,000

وقد تمت العمليات التالية خلال شهر تموز / ٢٠١٧

- ١- قرر صاحب المنشأة زيادة راس المال بقدر 4,000,000 دينار اودع 25% في المصرف والباقي بالصندوق.
- ٢- قامت المنشأة ببيع بضاعة بالاجل بمبلغ 1,000,000 دينار .
- ٣- سدد احد العملاء الدين المترتب عليه نقدا والبالغ 500,000 دينار .
- ٤- قامت المنشأة ببيع اثاث بمبلغ 2,000,000 دينار استلمت نصفه نقدا والباقي بالاجل .
- ٥- قام صاحب المنشأة بسحب مبلغ 2,000,000 دينار من الصندوق و 1,000,000 دينار من المصرف , 500,000 دينار بضاعة لحسابه الخاص .

المطلوب // ١- بيان اثرالعمليات السابقة على عناصر قائمة المركز المالي للمنشأة .

٢- اعداد قائمة المركز المالي في 2017/7/31 .

س٣/ توفرت لديك البيانات التاليه :

- ١- 2015/5/1 بدأت شركة الزهور التجارية اعمالها براس المال مقدارة 30,000,000 دينار اودع ثلثة في المصرف والباقي بالصندوق .
- ٢- 5/5 اشترت الشركة بضاعة بمبلغ 5,000,000 دينار دفعت نصفها نقدا والباقي بالاجل .
- ٣- 5/7 دفعت الشركة مصاريف نقل البضاعة والبالغة 200,000 دينار نقدا كما دفعت مصاريف تأمين على البضاعة بمبلغ 1,000,000 بشيك .
- ٤- 5/8 سددت الشركة 40% من الدين المترتب عليها نقدا .
- ٥- 5/10 باعت الشركة بضاعة بمبلغ 3,000,000 دينار استلمت 30% نقدا والباقي بالاجل.

م // ١- تسجيل قيود اليومية اللازمة في دفاتر شركة الزهور .

٢- ترحيل وترصيد جميع الحسابات الى سجل الأستاذ العام .

س ٤ / اختر الاجابة الصحيحة لكل من العمليات المالية التالية  
١- 2015/1/6 اشترت الشركة ماكينة بمبلغ 3,000,000 دينار وقامت الشركة بتشغيل الماكينة وبتاريخ 1/7 اشترت الشركة وقود وزيت للماكينة بمبلغ 250,000 دينار . ان كلفة الماكينة في السجلات :

١- 2,750,000 دينار بـ، 3,000,000 دينار جـ - 3,250,000 دينار دـ لاشيء مما يذكر

٢- اذا علمت ان صافي المركز المالي اول المدة 4,500,000 دينار واخر المدة 6,000,000 دينار والاضافات الى راس المال 1,000,000 دينار والمسحوبات 1,500,000 دينار فان صافي الدخل :

١- 2,500,000 دينار بـ، 1,500,000 دينار جـ - 2,000,000 دينار دـ جميع الاجابات خاطئة .

٣- بلغ رصيد حساب الصندوق في بداية السنة 11,000,000 دينار والمقبوضات النقدية خلال السنة 8,000,000 دينار والمدفوعات النقدية 30% من رصيد حساب المقبوضات فان رصيد حساب الصندوق في نهاية السنة :

١- 16,600,000 دينار بـ، 16,000,000 دينار جـ - 19,000,000 دينار دـ لاشيء مما يذكر

٤- اذا علمت ان رصيد حساب الاثاث 14,000,000 دينار في سجلات احدى الشركات التجارية . قامت الشركة ببيع نصف الاثاث بربح مقدارها 20% من سعر البيع فان سعر البيع :

١- 8,000,000 دينار بـ، 8,700,000 دينار جـ - 8,750,000 دينار دـ 8,500,000 دينار

٥- قامت شركة باستبدال سيارة قيمتها الدفترية 7,000,000 دينار باخرى جديدة وقد تم تقدير السيارة القديمة بمبلغ 5,000,000 دينار وتم دفع مبلغ 4,000,000 دينار مع السيارة القديمة فان القيمة السوقية للسيارة :

١- 10,000,000 دينار بـ، 9,000,000 دينار جـ - 9,500,000 دينار دـ لاشيء مما يذكر

٦- قامت الشركة بسداد الدين المترتب عليها بشيك هذه العملية ادت الى :

١- زيادة في الموجودات ادى الى زيادة في المطلوبات

ب- زيادة في راس المال ادى الى زيادة في المطلوبات

ج- نقص في الموجودات ادى الى نقصان في المطلوبات

د- نقص في المطلوبات ادى نقص في راس المال

س ٥ / سجل العمليات التالية في دفتر يومية محلات شمس التجارية

١- 2016/3/1 بدأت المحلات اعمالها بالموجودات والمطلوبات التالية

صندوق	10,000,000	داننون	4,000,000	سيارات	5,000,000	اثاث	6,000,000	قروض	2,000,000
مصرف	8,000,000	اوراق دفع	500,000	راس المال	٢٢٢٢				

٢- 3/3 اقترضت المحلات من مصرف الرشيد مبلغ 2,000,000 دينار بمعدل فائدة سنوي 9% اودعتها في حسابها الجاري لدى المصرف .

٣- 3/5 باعت الشركة اثاث بمبلغ 3,000,000 دينار بربح مقدارة 25% من سعر البيع نقدا .

٤- 3/7 قامت الشركة باستبدال احدى السيارات باخرى جديدة قيمتها السوقية 4,000,000 دينار وحققته الشركة ربح من عملية الاستبدال مقدارة 1,000,000 دينار وقد قدرت قيمة السيارة القديمة بمبلغ 3,000,000 دينار وقد تم الاتفاق على دفع الفرق نقدا .

٥- 3/9 اشترت المحلات الاثاث بمبلغ 1500,000 دينار بشيك كما دفعت الشركة مصاريف نقل الاثاث والبالغة 250,000 دينار نقدا .

٦- 3/15 باعت المحلات الاثاث المتبقي بخسارة مقدارها 15% من القيمة الدفترية نقدا .

٧- 11/3 سددت المحلات القرض مع الفوائد بشيك .

رئيس القسم  
أ. د. منتظر فاضل سعد

أ. د. عبد الحكيم زهير  
عميد الكلية  
تعييناتنا بالنجاح

مدرس المادة  
م.م. قاسم محمد دهش





---

---

Course name: English first stag M&E vining study , Date: 27 & 2023, Total Mark: 50 Time: 2 H

---

---

Name \_\_\_\_\_ no: \_\_\_\_\_

Answer just four questions

**Q1/ Determine if the statement is true or false:**

Are the sentences true ( ✓ ) or false ( ) ? Correct the false sentences.

- 1 .Ann-alias is from Italy.
- 2 .She's in Rome. she isn't in Rome .
- 3 .Peter and Helen have two sons.
- 4 .She's in a small school. .
- 5 .Her school is in the center .
- 6 .The student in her class are all from Europa . .
- 7 .Rosie is Ann-alias is teacher .
- 8 .The national gallery is expensive.
- 9 .The underground is difficult to use .
10. The coffee is good.

**Q2 / Choose the correct answer from the options.**

- 1- He works at Basra airport ( Engineer – dentist – Journalist – pilot )
- 2- What time is it ( 11:50 ) . ( ten past eleven – eleven to ten – twelve past ten – twelve to ten )
- 3- She always ( play ) tennis . ( play . plays , plaies )
- 4- The baby ( cry ) . ( cry , cries . crys , cryes )
- 5- We always ( go ) to the club ( go , goes , going . are going )
- 6- Mai is a teacher , she ( **teach** ) English ( teach , teaches . is teaching )
- 7- \_\_\_\_\_ his the first name ? ( Bill ) ( where , what , why )
- 8- I pronoun is \_\_\_\_\_ in possessive adjectives . ( is , your , my )

Q3 / you can agree or disagree the following .

- 1- Babur is an ambitious and successful personality and is the youngest school head teacher in the world . ( agree – disagree )
- 2- The verb in the simple present tense takes the auxiliary verb ( do or does ) with not . ( agree – disagree )
- 3- It can come often and sometimes at the beginning of a sentence . ( agree – disagree )
- 4- We can use Question Tools for the question sentence and it can be at the end of the sentence. ( agree – disagree )
- 5- Add ( es ) to verbs that end with letters ( ch , sh , s , z , o ) ( agree – disagree )

Q4: write just one

Write an article (150 -200 words) about just one :

- 1- Rick Wilson and his family .
- 2- White house in U.S.A. day by day
- 3- Nicola Benedetti A passion for music .

Q5 / answer the questions

- 1- What is the name of Babur's school?
- 2- How can the adjective be more stronger
- 3- What verbs are used to express ability in the past and present tense?
- 4- What is the difference between Claudia and Andrew. three points



Assist Prof. Dr. Radhi Obaid  
Course instructor

Good Luck



Prof. Dr. Muntader saad  
Head, Department of Finance



.. مونتادير يونس صابر  
تعمير الامور التعليمية



جامعة البصرة  
كلية الإدارة والاقتصاد  
قسم العلوم المالية والمصرفية  
امئلة الامتحان النهائي  
الفصل الاول - الدور الثاني  
للعام الدراسي ٢٠٢٢-٢٠٢٣



الزمن : ساعتان

التاريخ : ٢٠٢٣/٨/١٨

المرحلة : الاولى

المادة : اللغة العربية

ملاحظة : اجب عن اربعة اسئلة فقط

السؤال الاول : (١٢,٥ درجات)

مثل لما ياتي في جمل تامة :

- ١- مبتدا خبره جملة فعلية
- ٢- مبتدا مجرور بالباء الزائدة
- ٣- مبتدا محذوف جوازا
- ٤- خبر مصدر مؤول
- ٥- حرف جر شبيه زائد

السؤال الثاني : (١٢,٥ درجات)

اعرب ما ياتي اعرابا مفصلا :

- ١- قال تعالى : (( وفوق كل ذي علم عليم ))
- ٢- قال تعالى ((الرحمن علم القرآن))

السؤال الثالث : (١٢,٥ درجات)

اذكر الفرق بين الجملتين الاتيتين واعرب ما تحته خط

متى الامتحان؟ ..... يوم الاحد

من المسلفر؟ مجد .....

السؤال الرابع : (١٢,٥ درجات)

عرف المدح وانكر اقسامه واستشهد بنموذج منه

السؤال الخامس : (١٢,٥ درجات)

اذكر خمس معلقات من ضمنها معلقة زهير بن ابي سلمى .

\*\*\*مع تمنياتنا لكم بالنجاح\*\*\*

أ.د. منتظر فاضل سعد  
رئيس القسم

أ.د. صباح عبدالكريم مهدي  
مدرس المادة

أ.م.د. عمار يوسف ساجر  
معاون العميد لشؤون العملية




أسئلة الامتحان النهائي الكورس الاول / الدور الثاني (

ملاحظة : الإجابة عن أربعة أسئلة فقط


س1: املا الفراغات التالية بما يناسبها

- 1- علاقة التخطيط ببقية الوظائف الادارية هي.....
  - 2- المنظمة التي تحقق اهدافها كاملة لكن تهدر الكثير من الموارد هي .....
  - 3- رئيس قسم في جامعة معينة يعتبر .....
  - 4- اعتماد الاماليب الرياضية والاحصائية في اتخاذ القرارات يقع ضمن تخصص .....
  - 5- يسمى المستوى الثاني للثقافة التنظيمية هي.....
- س2 : عندما تمر المنظمة بوضع خطير ومربك تحتاج الى التعامل الحكيم لأجتياز الازمة و تختلف الازمات من حيث حدتها وتأثيرها من حالة الى أخرى، وضح بالتفصيل خطوات التعامل مع الازمة؟
- س3 : يرى مدخل النظم منظمات الاعمال على أنها أنظمة مفتوحة تتعامل مع بيئتها باستمرار تكلم بالتفصيل عن هذا المدخل ، معزز اجابتك بالرسم ؟
- س4: ناقش بالتفصيل مضمون نظرية الحاجات الانسانية لماسلو، معززاً لجابتك بالرسم؟
- س5: ما المقصود بالتخطيط، وماهي اهم المراحل التي يجب مراعاتها في العملية التخطيطية، وضح ذلك بالتفصيل؟

  
أ.د. منتظر فاضل سعد  
رئيس القسم

  
م.م. علاء ناصر داود  
مدرس المادة

  
م.م. دعاء شهيد حبيب  
مدرسة المادة

  
م. هدايب كاظم نتوش  
مدرسة المادة

  
م. هدايب كاظم نتوش

المرحلة : الأولى  
المسادة : الحرية والديمقراطية  
التاريخ : 2023 / 8 / 13  
الوقت : ساعتان



جامعة البصرة  
كلية الإدارة والاقتصاد  
قسم العلوم المالية والمصرفية  
الدراسات الصباحية والمسائية

أسئلة الامتحان النهائي (الكورس الأول) للعام الدراسي 2023/2022

الاسم ..... الشعبة .....

ملاحظة : الإجابة على أربعة أسئلة فقط ( توزع الدرجات بالتساوي )

س1: ضع علامة صح أو خطأ أمام العبارات التالية مع تصحيح الخطأ إن وجد:

- 1- إن حرية تكوين النقابات يراد بها تشكيل جماعات منظمة يستمر وجودها لفترة طويلة .
- 2- حق الإنسان أن يكون حراً من القيود التي يراد فرضها لذا فإن الحقوق هدف والحرية وسيلة معترف بها .
- 3- الديمقراطية هي سوء استخدام النفوذ العام لتحقيق أرباح خاصة للحصول على منافع بطرق غير مشروعة .
- 4- يعد سبب احتكار الثروة من العوامل الجغرافية لها الأثر الكبير على الدول العربية بسبب الثروة النفطية .
- 5- منظمة الأمم المتحدة هي الجهة المسؤولة أساساً من مكافحة الفساد والحد منه من خلال وضوح التشريعات

س2: أختَر الإجابة الصحيحة لكل مايلي:

- 1- من الحريات الأساسية التي ظهرت تباعاً في الاجتماعات العامة والتي تضمنتها النصوص التشريعية هي  
( ا- الحرية الفكرية والثقافية ب- الحرية الاقتصادية والاجتماعية ج- الحرية الأساسية او الفردية )
- 2- من مميزات النظام الديمقراطي المهمة هي  
( ا- عدم التدخل في الأمور السياسية ب- تجديد قوة المجتمع ج- تجديد قوة الفرد والمجتمع )
- 3- أنواع الفساد من ناحية الانتشار هو ( ا- الفساد الدولي ب- الفساد العالمي ج- الفساد السياسي )
- 4- تعني ان المنافسات والقرارات يجب ان تكون قابلة للرقابة الشعبية واممال الحكومة هي  
( ا- الحقوق المدنية والسياسية ب- تحقيق المساواة الاجتماعية ج- حكومة يجب مساءلتها )
- 5- المشاكل التي واجهت الدول العربية في تطبيق الديمقراطية ترجع الى اسباب  
( ا- اجتماعية واقتصادية ب- مشاكل الاندماج السياسي ج- انقسام نخب الشعب وغياب الاجتماع )

س3: عدد اهم خصائص النظام الديمقراطي ثم اشرح واحدة منها بالتفصيل .

س4: وضح ماهي اسباب الفساد وتأثيراته على المجتمع ثم اشرح واحدة منها بالتفصيل .

س5 : ماذا يقصد بحرية المشاركة السياسية وقاعدة ضمير الراي العام ثم اشرح واحدة منها بالتفصيل .

تصياتي لكم بالنجاح

رئيس القسم  
أ.د. منتظر فاضل سعد

أ.م.ع. العميد

م.د. حسين موسى حسين  
مدرس المادة

جامعة البصرة

كلية الإدارة والاقتصاد

العلوم المالية والمصرفية

سات الصباحية والمسابية



المادة : إدارة الاعمال

المرحلة : الاولى

التاريخ : ١١ / ٩ / 2023

الزمن : ساعتان

أسئلة الامتحان النهائي الكورس الثاني / الدور الثاني

ملاحظة : الإجابة عن أربعة أسئلة فقط (توزع الدرجات بالتساوي )

س1 : اجب عما يأتي

1. ماهي التحديات التي تواجه عملية التصميم للمنظمات ؟

2. وضح من خلال الرسم فقط أسلوب الشبكة الإدارية ؟

س2: وضح من خلال الرسم فقط

1. نظام الرقابة 2. المقارنة بين التصميم العضوي والميكانيكي

2. أنواع الرقابة وفق موعدها

س3: وضح ما المقصود بالرقابة والعملية الرقابية, وماهي مراحل العملية الرقابية , معزراً

لجابتك بالرسم ان وجد؟

س4: هناك العديد من العوامل التي تؤثر في مركزية واللامركزية القرار, وضح هذه العوامل مبيناً

المفهوم العام للمركزية واللامركزية؟

س5 : املأ الفراغات بما يناسبها

1. في إطار أسلوب الشبكة الإدارية فإن أفضل أسلوب للقيادة هو.....

2. تصنف الرقابة على وفق موعد اجرائها إلى.....و.....و.....

3. للسلطة الاستشارية عدة أدوار هي..... و..... و.....

4. القيادة التي لها القدرة على رؤية المستقبل بوضوح وفهم الأسلوب الذي من خلاله تستطيع

الوصول اليه تسمى .....

5. القيادة..... تشبه القيادة الكارزمية لكنها تتميز كونها ذات قدرات خاصة.

رئيس القسم  
أ.د. منتظر فاضل سعد

م.م. علاء ناصر أ.د.

م.م. دعاء شهيد حبيب

مدرسوا المادة  
م. ميادة كاظم فتوش

الس. العم



جامعة البصرة  
كلية الإدارة والاقتصاد  
قسم العلوم المالية والمصرفية  
اسئلة الامتحان النهائي  
الفصل الثاني - الدور الثاني  
للعام الدراسي ٢٠٢٢-٢٠٢٣



الزمن : ساعتان

التاريخ : ١٤ / ٩ / ٢٠٢٣

المرحلة : الاولى

المادة : اللغة العربية

ملاحظة : اجب عن اربعة اسئلة فقط

سؤال الاول : (١٢,٥ درجات)

ب ما يأتي اعراباً مفصلاً

تعالى ((فصبرٌ جميلٌ والله المستعانُ على ما تصفون))

سؤال الثاني : (١٢,٥ درجات)

الفرق بين الجملتين الاتيتين واعرب ما تحته خط:

١. في عنقي لاحترمن الكبير.

٢. في عنقي قلادة.

سؤال الثالث : (١٢,٥ درجات)

لما يأتي في جمل تامه

1. مصدر نائب عن فعله دال على الحدوث.

2. نعت مقطوع لاقادة الذم.

3. لفظ صريح في القسم.

4. فعل ناقص يفيد النفي.

5. خبر محذوف وجوباً.

سؤال الرابع : (١٢,٥ درجات)

زيق قصيده مشهوره وقف بها موقفاً شجاعاً لنصرة الحق، انكر مميزات هذه القصيدة واستشهد بأربعة ابيات منها.

سؤال الخامس : (١٢,٥ درجات)

المتنبي في مديحه طريقة تفرد بها بين الشعراء، انكرها واستشهد بأربعة ابيات من شعره.

\*\*\* مع تمنياتنا لكم بالنجاح \*\*\*

أ.د. منتظر فاضل سعد  
رئيس القسم

أ.د. صباح عبدالكريم مهدي  
مدرس المادة

المادة : مبادئ المحاسبة  
المرحلة : الاولى  
الوقت : ساعتان  
التاريخ : 2023 / 9 / 13



جامعة البصرة  
كلية الإدارة والاقتصاد  
قسم العلوم المالية والمصرفية  
الدراسات الصباحية والمسائية

اسئلة الامتحانات النهائية للكورس الثاني / الدور ( الثاني ) للعام الدراسي 2022 - 2023

ملاحظة : الاجابة عن اربعة اسئلة فقط (( توزع الدرجات بالتساوي )) .

س1/ اجب عن الاتي :

- أ- عرف الشيك وما هي اهم المعلومات التي يجب ان يتضمنها ؟
- ب- ماذا نقصد بمصاريف القطع وممن تتكون هذه المصاريف ؟

س2/ اجب عن كل ممايتي :

1- تمنح شركة افاق التجارية خصم كمية على المبيعات وفق النسب التاليه 500,000 – 1,000,000 %2 , 1,000,000 – 2,000,000 %3 , 2,000,000 – 2,500,000 %4 , مازاد عن ذلك 5% بتاريخ 2020/2/5 باعت الشركة بضاعة بمبلغ 4,000,000 دينار بالاجل الى التاجر احمد وبتاريخ 2/7 سدد التاجر احمد المستحق عليه نقدا .

م// تسجيل قيود اليومية في دفاتر شركة افاق و التاجر احمد حيث تم الاتفاق على الاحتساب خصم كمية عند السداد .

2- 6/5 اشترى التاجر محمد بضاعة بمبلغ 7,000,000 دينار بالاجل من التاجر سعيد وبتاريخ 6/7 تبين ان هناك بضاعة تالفة بمبلغ 2,000,000 دينار تم الاتفاق على ارجاعها ,

م// تسجيل قيود اليومية في دفاتر المشتري والباع .

3- استلم التاجر عمر كمبياله من شركة النور بمبلغ 9,000,000 دينار تستحق الدفع بتاريخ 2021/7/1 حيث قام التاجر بتاريخ 2021 /5/1 بخصم الكمبياله لدى مصرف الرافدين مقابل عمولة تحصيل 25000 دينار ومعدل خصم 2% .

م// تسجيل القيود اليومية في سجل التاجر عمر .

4- اشترى التاجر اسعد بضاعة من التاجر حسن بمبلغ 3,000,000 دينار بشيك وقام التاجر حسن بدفع مصاريف نقل البضاعة والبالغة 50,000 دينار نقدا .

م// تسجيل قيود اليومية في دفاتر التاجر اسعد .

5- 2019/3/1 اشترى التاجر عباس بضاعة بمبلغ 5,000,000 دينار وبخصم تجاري 10% وبشروط دفع 5/2 , 10/3 , ن/30 وبتاريخ 3/9 سدد التاجر المستحق عليه نقدا .

م// تسجيل قيود اليومية اللازمة .

س3/ توفرت لديك البيانات التاليه :

استلمت شركة الاخوين التجارية الكمبيالات التاليه :

- أ- كمبياله من التاجر عدي بمبلغ 5,000,000 دينار تستحق الدفع 2017/6/1 .
  - ب- كمبياله من التاجر حسين بمبلغ 3,000,000 دينار تستحق الدفع 2017/8/1 .
  - ت- كمبياله من التاجر محمود بمبلغ 6,000,000 دينار تستحق الدفع 2017/9/1 .
  - ث- كمبياله من التاجر حيدر بمبلغ 7,000,000 دينار تستحق الدفع 2017/10/1 .
- 1- 2017/5/1 اشترت الشركة بضاعة من التاجر فهد بمبلغ 8,000,000 دينار حيث ظهرت له كمبياله التاجر عدي ودفعت الباقي نقدا .
- 2- 2017/6/1 قامت الشركة بخصم كمبياله التاجر حسين لدى مصرف الرشيد مقابل عمولة مصرف 20,000 دينار .
- 3- 7/1 ارسلت الشركة ورقة التاجر محمود الى المصرف لغرض التحصيل . يتبع .....



- 4- 9/1 اشعر المصرف الشركة بتحصيل قيمة كمبياله التاجر محمود مقابل عمولة تحصيل 30,000 دينار .  
 5- 10/1 رفض التاجر حيدر سداد قيمة الكمبياله الى الشركة حيث تم الاتفاق على تجديد الكمبياله على النحو التالي : ا- ان يدفع مبلغ 3,000,000 دينار نقدا بـ احتساب فوائد تاخيرية مقدارها 400,000 دينار ج- ينظم كمبياله جديدة بالمبلغ المتبقي تستحق بتاريخ 12/1 .

م // تسجيل قيود اليومية في دفاتر شركة الاخوين التجارية .

س/4 في ما يلي ارصده ظاهرة في دفاتر شركة بابل التجارية :

صندوق ??? , مصرف 19,000,000 , بضاعة اول المدة 4,000,000 داننون 8,800,000 , خسائر بيع موجودات ثابتة 2,500,000 , اثاث 12,000,000 , ايراد عقار 10,000,000 , اجهزة 8,500,000 , مردودات المبيعات 3,500,000 , خصم مكتسب 1,000,000 , مصاريف تحصيل 800,000 , اوراق قبض ??? , قروض 9,300,000 , مردودات المشتريات 3,200,000 , مصاريف مبيعات 250,000 , مبيعات 15,000,000 , مديون 7,500,000 , مشتريات 25,000,000 , بضاعة اخر المدة 6,400,000 , فوائد دائنة 2,000,000 , ارباح بيع موجودات ثابتة 4,500,000 , مصاريف قطع 3,000,000 اوراق دفع 5,500,000 , مصاريف احتجاج 250,000 , راس المال 45,000,000 . اذا علمت ان الصندوق واوراق القبض تعادل 25% و 15% على التوالي من راس المال

م // - اعداد ميزان المراجعة بالأرصدة

س/5 تمنح شركة وارث التجارية خصم كمية الى عملائها وفق النسب التالية :

لا شيء على 1000,000 دينار الاولى

3% على 1,000,000 دينار الثانية

5% على 2,500,000 دينار الثالثة

7% ما زاد عن 2,500,000 دينار

1- بتاريخ 2022/6/1 اشترى التاجر سعد بضاعة من التاجر حيدر بمبلغ 3,000,000 دينار بخصم تجاري 5% وبشروط

دفع 5/4 , 10/3 , ن/30 .

2- 6/2 باعت الشركة بضاعة بمبلغ 7,500,000 دينار بالأجل الى التاجر سعد .

3- 6/4 اشترى التاجر حيدر بضاعة من شركة وارث بمبلغ 4,500,000 دينار بالأجل .

4- 6/7 سدد التاجر سعد الدين المترتب بذمته الى التاجر حيدر نقدا .

5- 6/9 تبين انا هناك بضاعة تالفة بمبلغ 500,000 دينار قام التاجر سعد بارجاعها الى الشركة .

6- 6/12 سدد التاجر حيدر الدين المترتب بذمته بشيك الى الشركة .

7- 6/15 سدد التاجر سعد الرصيد المتبقي بذمته نقدا .

م // تسجيل قيود اليومية اللازمة في دفاتر كل من شركة وارث والتاجر سعد على فرض :

1- تم الاتفاق مع التاجر سعد على احتساب خصم الكمية عند التسديد .

2- تم الاتفاق مع التاجر حيدر على احتساب خصم الكمية عند كل عملية شراء .

مع تمنياتنا بالنجاح

رئيس القسم  
 ا.د. منتظر فاضل

م. قاسم محمد دهش  
 مدرس المادة



جمهورية العراق  
وزارة التعليم العالي والبحث العلمي  
جامعة البصرة  
كلية الإدارة والاقتصاد / قسم العلوم المالية والمحاسبية

أسئلة الامتحان النهائي للدراسات الصباحية والمسائية - الكورس الثاني للعام الدراسي 2022-2023 - الدور الثاني (العام)  
المادة : احصاء 2 المرحلة : الاولى التاريخ : 2023 / 09 / 16 .... الزمن : 2 ساعة

ملاحظة : الإجابة عن أربعة أسئلة فقط .

(12.5 درجة)

س1 / ضع علامة صح او خطأ لما يأتي :

1. تستخدم الدرجة المعيارية لمقارنة اداء طالب معين في مواد مختلفة
2. يقال للمجموعة A ذات تشتت اكبر من المجموعة B علما ان المدى لـ A=70 و لـ B=30 .
3. يتأثر الانحراف المعياري تأثراً كبيراً بالقيم المتطرفة .
4. يعتبر معامل الارتباط بيرسون ان المتغيرات ذو تصنيف نوعي .
5. تكون قوة معامل الارتباط محصورة بين الصفر والواحد .

(12.5 درجة)

س2 / من جدول التوزيع التكراري الآتي :

الفئات	3-1	5-3	7-5	9-7	المجموع
التكرار $f_i$	5	6	4	5	20

جد : 1 قيمة X -2- التباين 3- الانحراف المعياري 4- الانحراف المتوسط 5- المدى

س3 / الآتي تقديرات 6 طلبية في امتحان الرياضيات والإحصاء ، المطلوب حساب العلاقة بين تقديرات المادتين .

(12.5 درجة)

تقديرات x : جيد ، متوسط ، ضعيف ، مقبول ، جيد جداً ، ممتاز

تقديرات y : متوسط ، جيد ، مقبول ، ضعيف ، ممتاز ، جيد جداً

س4 / اذا علمت ان الدرجة المعيارية لمادة الإحصاء العملي لآحد الطلاب هي 0.56 وان الوسط الحسابي يساوي 6 فإذا كانت درجة الطالب  $Y_i$  تساوي 7 جد ما يلي : 1- الانحراف المعياري 2- التباين 3- معامل الاختلاف C.V. 4- اذا كان  $\sum(Y_i - \bar{Y})^2 = 10$  جد قيمة n 5- اذا كانت درجة الطالب الثالثة هي 5 فما هي الدرجة المعيارية له

(12.5 درجة)

س5 / للبيانات التالية : 3, 4, 2, 5, 6, 3, 4, 5- المدى  
1- التباين 2- الانحراف المعياري 3- معامل الاختلاف

(12.5 درجة)

رئيس القسم

أ. د . منتظر فاضل سعد

مع تمنياتنا لكم بالنجاح  
مدرس المادة

أ.م.د. ريسان عبدالامام

مدرس المادة  
أ.ساهرة حسين زين

أ.م.د. هادي



ملاحظة : الاجابة عن خمسة اسئلة فقط وتوزع الدرجات بالتساوي.

س1 : املا الفراغات التالية :

1. تصنف الحاسبات حسب الحجم والقدرة التخزينية الى .....
2. يقوم الابعاز ..... بإغلاق جميع البرامج للمستخدم الحالي والانتقال الى مستخدم اخر .
3. تقسم الذاكرة الرئيسية للحاسوب الى عدة انواع منها..... و.....
4. يمكن تصنيف الأقراص المدمجة من حيث استخدامها الى..... و..... و.....
5. .... وهي مجموعة الاجزاء التي تتكون منها الحاسبة الالكترونية .

س2 : اختر رمز الاجابة الصحيحة :

1. وهي الوحدة المسؤولة عن تنفيذ العمليات الحسابية والعمليات المنطقية على البيانات :  
 ا- وحدة التخزين اللحظي . ب- وحدات الاخراج . ج- وحدة السيطرة . د- لا شيء مما ذكر
2. يعد من برامج التطبيقات ما عدا :  
 ا- برامج معالجة النصوص . ب- برامج الجداول الحسابية . ج- برامج البريد الالكتروني . د- برامج ادارة الملفات
3. اهم سبب في اختلاف أنظمة التشغيل فيما بينها :  
 ا- طريقة التشغيل . ب- حدائة الجهاز المستخدم . ج- الواجهة الرسومية . د- لا شيء مما ذكر
4. يعتبر الماسح الضوئي وقارئ الخطوط المتوازية من وحدات :  
 ا- وحدات الادخال . ب- وحدات الاخراج . ج- وحدات الادخال والاخراج معا . د- لا شيء مما ذكر
5. يتم تخزين نتائج معالجة البيانات فيها بشكل دائم لاستخدامها لاحقا :  
 ا- الذاكرة الرئيسية . ب- وحدة المعالجة المركزية . ج- وحدات التخزين الثانوي . د- لا شيء مما ذكر

س3 : أ- عرف الملف (File) مع توضيح كيفية انشاء الملف على سطح المكتب ؟

ب- وضح مفهوم الحاسوب ؟ وما هي المهام الاساسية له ؟

س4 : أ- عرف وحدات الاخراج وما هي اهم هذه الوحدات عددها مع توضيح اثنان منها بالتفصيل ؟

ب- ما هي اسباب اختلاف أنظمة التشغيل فيما بينها ؟

س5 : أ- ما هي الخطوات اللازمة لتشغيل جهاز الحاسوب واغلاقه؟

ب- وضح استخدامات الفأرة (Mouse) بالتفصيل ؟

س6 : أ- توجد العديد من أنظمة تشغيل الحاسوب عددها مع توضيح اثنان منها بالتفصيل ؟

ب- ما هي عناصر نافذة windows عددها مع توضيح اثنان منها بالتفصيل؟

مع تمنياتنا لكم بالنجاح

أ.د. منتظر فاضل سعد  
رئيس القسم

م.م. حسن حيدر عبد الكريم  
مدرس المادة

م.م. عبدالله محمد راضي  
مدرس المادة

# المرحلة الثانية

المرحلة : الثانية  
المادة : الإدارة المالية  
التاريخ : 2023/8/2  
الوقت : ساعتان



جامعة البصرة  
كلية الإدارة والاقتصاد  
قسم العلوم المالية والمصرفية  
الدراسات الصباحية والمسابية

أسئلة امتحان الكورس الأول للعام الدراسي 2022-2023 (الدور الثاني)

لحظة الإجابة عن اربعة أسئلة ( الدرجات توزع بالتساوي )

س1 / اشرح بالتفصيل مهام ودور المدير المالي.

س2/ توفرت لديك الميزانية العمومية التالية والمطلوب.

معيار الصناعة
نسبة السيولة السريعة 1.25 مره
ROE 22 %
ROI 12 %
نسبة التدول 2 مره
دوران الموجودات الثابتة 3 مرة

- 1- نسبة التداول
- 2- نسبة السيولة السريعة
- 3- دوران الموجودات الثابتة
- 4- ROE
- 5- ROA

علماً أن صافي الدخل 800000 دينار.

الميزانية العمومية

المطلوبات	الموجودات
المطلوبات المتداولة 72000	النقدية 334000
القروض 168000	المخزون 50000
اجمالي الديون 240000	مجموع الموجودات المتداولة 384000
حقوق الملكية 400000	الموجودات الثابتة 256000
مجموع المطلوبات وحق الملكية 640000	مجموع الموجودات 640000

س3/ توفرت لديك الميزانية العمومية التالية والمطلوب التغير في الميزانية العمومية بالمبالغ والنسب.

2019	2018	البيان
12000000	10000000	النقدية
400000	500000	أوراق مالية
10000000	15000000	المدينون
4000000	4500000	المخزون
26400000	30000000	مجموع الموجودات المتداولة
73600000	60000000	الموجودات الثابتة
100000000	90000000	مجموع الموجودات
6000000	5000000	الدائنون
14000000	10000000	قروض قصيرة الاجل
20000000	15000000	مجموع المطلوبات المتداولة
45000000	45000000	قروض طويلة الاجل
65000000	60000000	مجموع المطلوبات
25000000	25000000	الأسهم العادية
10000000	5000000	الأرباح المحتجزة
100000000	90000000	مجموع المطلوبات وحق الملكية

س14 بلغت مبيعات شركة النجاح 5000000 دينار ، رصيد الارباح المحتجزة لنفس العام 300000 دينار، صافي الدخل 200000 دينار، الشركة توزع مقسوم الارباح 60%، وقد وجدت الشركة ثبات الحسابات الآتية كنسب مئوية من المبيعات ( النقدية 5%، الحسابات المدينة 5%، المخزون 10%، الموجودات الثابتة 30%، الحسابات الدائنة 15%، المستحقات 5% )

المطلوب:-

- 1- تحديد التمويل الخارجي المطلوب بطريقة النسب المؤية للمبيعات عند زيادة مبيعات الشركة بنسبة 20%.
- 2- نسبة التمويل الذاتي.

س15 توفرت لديك المعلومات الآتية والمطلوب

1- التحليل العمودي لعام 2010

2- التحليل الأفقي لعام 2011

2011	2010	البيان
1000000	900000	<u>الموجودات المتداولة</u>
600000	700000	النقدية
400000	300000	الحسابات المدينة
<b>2000000</b>	<b>1900000</b>	المخزون
4000000	3000000	<u>مجموع الموجودات المتداولة</u>
300000	200000	الموجودات الثابتة
3700000	2800000	الاندثارات
<b>5700000</b>	<b>4700000</b>	صافي الموجودات الثابتة
		<u>مجموع الموجودات</u>
		<u>المطلوبات المتداولة</u>
800000	700000	الحسابات الدائنة
200000	300000	المستحقات
200000	300000	اوراق الدفع
<b>1200000</b>	<b>1300000</b>	<u>مجموع المطلوبات المتداولة</u>
1300000	1100000	قروض طويلة الاجل
<b>2500000</b>	<b>2400000</b>	<u>مجموع المطلوبات</u>
3000000	2000000	الاسهم العادية
200000	300000	الارباح المحتجزة
<b>5700000</b>	<b>4700000</b>	<u>مجموع المطلوبات وحق الملكية</u>

مع تمنياتي لكم بالموفقية

أ. د. عبد الحسين تهنيق شبلبي  
عميد الكلية

مدرس المادة  
أ.م.د. محمد جاسم محمد

رئيس القسم


أ.د. منتظر كاضل سعد

جامعة البصرة

كلية الإدارة والاقتصاد

قسم العلوم المالية والمصرفية

الدراسات الصباحية والمسائية



المرحلة : الثانية

المسادة : النقود والمصارف

التاريخ : ٢٦ / ٨ / 2023

الوقت : ساعتان

أسئلة الامتحان النهائي / الفصل الأول / الدور الثاني

الاسم ..... الرقم ..... الشعبة .....

ملاحظة: الإجابة عن خمسة أسئلة فقط وتوزع الدرجة بالتساوي.

س1: ما هي اهم العوامل التي تؤثر في السيولة المصرفية؟

س2: تتألف موارد المصرف التجاري او مطلوباته من موارد ذاتية وغير ذاتية، ماهي الموارد غير الذاتية وضحتها بشكل مفصل؟

س3: أدى زيادة تخصيص العمل والإنتاج الى ظهور صعوبات في نظام المقايضة ما هي اهم هذه المشاكل والصعوبات، وضحتها بشكل مفصل.

س4: ما هي اهم أنواع الودائع المصرفية وضحتها بالتفصيل؟

س5: ما هي الخصائص التي تميز الموجودات المالية عن الموجودات الحقيقية او المادية؟

س6: أ- ماهي الخصائص التي تميز النقود الالكترونية؟

ب- ماهو المقصود بموجودات البنك المركزي عرفها وبين اهم الموجودات في المصارف التجارية بالتفصيل؟

أ.د. منتظر فاضل سعد

رئيس القسم

مع تمنياتي لكم بالنجاح

أ.م.د. احمد جبر سالم

مدرس المادة

أ.م.د. عمار يوسف فاجر

معاون العميد لشؤون العمية

م.فايزة حسين مسجحت

مدرس المادة

المرحلة : الثانية  
المادة : مالية عامة  
التاريخ : 2023 / 8 / 26  
الوقت : ساعتان



جامعة البصرة  
كلية الادارة والاقتصاد  
قسم العلوم المالية والمصرفية  
الدراسات الصباحية و المسائية

أسئلة الامتحان النهائي الكورس الأول / لمرور اسئلة  
للعام الدراسي 2022-2023

الاسم ..... الرقم ..... الشعبة .....

ملاحظة : اجب عن اربعة اسئلة لكل سوال (12.5 درجة) مستعيناً بالمعادلات والأشكال البيانية أينما وجدت.

س ١: توفرت البيانات الآتية:

$$C = 10 + 0.6 Y, \quad I = 8$$

والمطلوب ما يأتي:

- ١- جد مقدار الدخل التوازني.
- ٢- جد مقدار الدخل اذا كان (  $G = 6$  ) مع تفسير النتيجة.
- ٣- جد مقدار الدخل اذا كان (  $T = 6$  ) مع تفسير النتيجة.
- ٤- جد مضاعف الضريبة.
- ٥- اثبت ان قيمة مضاعف الموازنة المتوازنة = 1

\*\*\*\*\*

س ٢: أ- يمكن تحديد الاكنتاب بالقرض في ثلاث طرائق فنية مختلفة، وضحاها بالتفصيل.

ب- متى تنشأ الفجوة الانكماشية، ما هي آثارها، وكيف يتم معالجتها؟

\*\*\*\*\*

س ٣: اجب بكلمة (صح) أو (خطأ) مع تصحيح الخطأ إن وجد.

- ١- إن اهمية الرقابة على تنفيذ الموازنة تتمثل في الوقوف على معرفة مدى تطابق التقديرات للنفقات والايرادات العامة مع ما تحقق فعلاً .
- ٢- تعتبر الحاجات العامة من العناصر الاساسية للمالية العامة والهدف من تحديدها هو معرفة مقدار الضريبة.
- ٣- يلتقي الرسم مع الثمن العام كونهما يتحددان وفقاً للقانون.
- ٤- يضمن مبدأ اليد الخفية في الفكر الكلاسيكي تحقيق التوازن الاقتصادي و الاجتماعي.
- ٥- تتمثل قاعدة المرونة في الضريبة في ان الضريبة الكبيرة تحل محل الضريبة الصغيرة.
- ٦- يعتمد المعجل في عمله على الميل الحدي للاستهلاك.



س٤: تلجأ الدولة الى الاصدار الجديد عندما تمر بظروف اقتصادية تتطلب إصدار جديد للنقود. وضع مفهوم الاصدار الجديد في كلا الفكرين التقليدي والحديث.

\*\*\*\*\*

س٥: أ- كيف نميز بين الحاجة العامة والحاجة الخاصة؟ اذكر اهم المعايير المستخدمة للفرقة بينهما.

ب- اذكر اهم التقسيمات العلمية للنفقات العامة.

أرجو لكم التوفيق



أ.د. منتظر فاضل سعد

رئيس القسم



أ.م. د. مهدي صالح

مدرس المادة



أ.م. د. عمار يوسف ضجر

معاون العميد لشؤون العمية



اسئلة الامتحان النهائي/ الفصل الاول  
العام الدراسي ٢٠٢٢-٢٠٢٣ الدور ( الثاني )

الاسم: ..... الشعبة: ..... الرقم: .....  
ملاحظة: الاجابة عن اربعة اسئلة فقط وتوزع الدرجة بالتساوي.

١// هناك مجموعة من المبادئ المحاسبية، اذكرها ووضح ما المقصود بكل واحدة منها.

٢// فيما يلي بعض الارصدة التي ظهرت في شركة البصرة التجارية لسنة ٢٠٢١ (المبالغ بالالف الدينار)  
٨٤٠,٠٠٠ مشتريات، ١,٣٠٠,٠٠٠ مبيعات، ٣٠,٠٠٠ مردودات المشتريات، ١٦,٠٠٠ خصم مسموح به، ٢٤,٠٠٠  
صم مكتسب، ٥٠,٠٠٠ مردودات المبيعات، ١٠,٠٠٠ مسموحات المشتريات. ٢٨,٠٠٠ مصاريف نقل المشتريات،  
٣٦,٠٠٠ مصروفات متنوعة، ١٦٠,٠٠٠ بضاعة اول المدة، ١٤,٠٠٠ مسموحات المبيعات، ٤٠,٠٠٠ ايرادات متنوعة.  
عند الجرد تبين ان بضاعة اخر المدة تبلغ قيمتها ١٤٠,٠٠٠ دينار.  
المطلوب// اعداد قائمة الدخل عن الفترة المنتهية في ٢٠٢١/١٢/٣١.

٣// في ٢٥ / ١١ / ٢٠٢٠ اجرت شركة (س) جردا مفاجئا للصندوق وكانت نتيجة الجرد كالآتي:

الرصيد الدفترى ١١٢,٠٠٠ دينار  
هناك زيادة في الصندوق مقدارها ٨,٠٠٠ دينار.  
هناك فاتورة مبيعات بمبلغ ١,٥٠٠ دينار لم تقيد في السجلات.  
هناك مبلغ ٢,٠٠٠ دينار ايراد عقار لم يسجله المحاسب في السجلات.  
لم تتمكن لجنة الجرد من اكتشاف اسباب ما تبقى من مبلغ الزيادة.  
المطلوب// تسجيل قيود اليومية اللازمة لمعالجة الحالة اعلاه وتصوير حساب الصندوق.

٤// فيما يلي البيانات التي امكن الحصول عليها من سجلات شركة العهد عند تسوية حساب البنك في ٣١ كانون الثاني ٢٠٢٠:

صيد حساب النقدية في السجلات ٣٢٨٠٠ دينار، رصيد حساب البنك على وفق كشف البنك ٤٨٤٠٠ دينار.  
لذا علمت انه قد جرت العمليات الآتية خلال الشهر:

- ١- ايداعات بالطريق ٣٠٠٠ دينار.
- ٢- صكوك معلقة رقم ٣٠١ / ٦,٠٠٠ دينار ورقم ٣٠٣ / ٧,٥٠٠ دينار.
- ٣- تحصيل اوراق قبض من قبل البنك لصالح الشركة بمبلغ ٨,٠٠٠ دينار.
- ٤- تحصيل فوائد اوراق قبض بمبلغ ١٦٠ دينار.
- ٥- خصم البنك من حساب لشركة مبلغ ٢٠٠ دينار مصروفات تحصيل و ١٦٠ دينار مصروفات خدمات مصرفية.
- ٦- هناك خطأ في تسجيل شيك ادى الى زيادة الرصيد للشركة في السجلات بمبلغ ٢,٧٠٠ دينار.

المطلوب// ١- اعداد مذكرة كشف البنك. ٢- اجراء قيود التسوية اللازمة في دفاتر الشركة. ٣- تصوير حساب الشركة بعد التسوية  
٥// التي بعض الارصدة الدائنة المستخرجة من ميزان المراجعة قبل التسوية لشركة النرجس التجارية في ٢٠٢٠/١٢/٣١.

٦,٥٠٠,٠٠٠ ايراد عقار مستلم مقدما، ٢,١٦٠,٠٠٠ فوائد دائنة مستلمة مقدما، ٦٠٠,٠٠٠ ايراد الاوراق المالية.  
وعند الجرد بين الآتي:

- ١- ان مبلغ ايراد العقار الشهري هو ٥٠٠,٠٠٠ دينار.
- ٢- ان مبلغ الفوائد المستلم لمدة سنة ونصف واعتبارا من ٢٠٢٠ / ١/١.
- ٣- ان مبلغ ايراد الاوراق المالية الشهري هو ٥٠٠,٠٠٠ دينار.

المطلوب//  
١- اثبات قيود التسوية والاعلاق لحسابات الايرادات اعلاه في ٢٠٢٠/١٢/٣١.  
٢- تصوير حسابات الاستاذ للايرادات اعلاه  
٣- بيان اثر العمليات اعلاه على كشف الميزانية.

مع تمنياتنا بالنجاح

رئيس القسم  
ا.د. منتظر فاضل سعد

مدرس المادة  
م.م. سلام صدام مهر

جامعة البصرة

كلية الادارة والاقتصاد

قسم العلوم المالية

المادة/ القانون التجاري

المرحلة/ الثانية الدراسة الصباحية والمسائية

الزمن/ ساعتان

التاريخ/ ٢٠٢٣/٨



اسئلة امتحان نهاية الكورس الاول / الدور الثاني

للعام الدراسي ٢٠٢٣-٢٠٢٤

ملاحظة/ الاجابة عن خمسة اسئلة فقط.

١٠ درجات

س١: ماذا تعني الشخصية المعنوية للشركة؟ وما هي النتائج المترتبة على اكتساب الشركة للشخصية المعنوية عددها واشرح واحدة منها؟

١٠ درجات

س٢: عرف القانون التجاري موضحا نطاق تطبيقه؟ مع بيان ما يميز الاعمال التجارية التي جعلت المشرع يخصص قانون خاص بها وهو القانون التجاري وضح ذلك.

١٠ درجات

س٣: اجب عن احد الفرعين:

أ- وضح كيفية تقسيم الشركات حسب ملكية رأس المال.

ب- عدد انواع الشركات التجارية حسب قانون الشركات العراقي وعرف واحدة منها.

١٠ درجات

س٤: عدد مع التوضيح ابرز النتائج على تقسيم الشركات الى شركات اموال وشركات اشخاص.

١٠ درجات

س ٥: اجب عن احد الفرعين -

- أ- ما هي فائدة مسك الدفاتر التجارية من قبل التاجر بموجب القانون؟  
ب- الاسباب التي دعت المشرع الابقاء على الاسهم الاسمية والغاء الاسهم لحاملها.

١٠ درجات

س ٦: عرف الاكتتاب، موضحا اين يتم الاكتتاب بموجب القانون، وما هي مدة الاكتتاب المحددة قانونا، موضحا مصير الاسهم المتبقية غير المكتتب بها بعد تأسيس الشركة.




رئيس القسم

ا.د منتظر فاضل محمد



مدرس المادة

م. م ندى مهدي

١.٥ السيد  




ملاحظة : 1. الاجابة عن اربعة أسئلة فقط .  
2. توزع الدرجات على الاسئلة بالتساوي.

س1: مبلغان يزيد المبلغ الاول عن الثاني بمقدار \$1000 اودع الاول لمدة ثلاث سنوات بسعر فائدة 6% سنويا" فيما اودع الثاني لمدة سنتين بسعر فائدة 5.5% سنويا فكان مجموع فائدهما \$ 760 . فما هو مقدار كل من المبلغين.

س2: يودع السيد محمد مبلغ \$300 بعد شهر من بداية كل شهرين. ولمدة عامين واربعه أشهر . ما هو رصيد السيد محمد في نهاية المدة اذا علمت ان سعر الفائدة المعتمد 8% سنويا".

س3: اودع السيد محمد مبلغا "معينا" لدى مصرف بتاريخ السادس من ايار عام 2016 فكان الفرق بين الفائدتين التجارية والصحيحة في العشرين من تشرين الثاني من نفس العام هو \$4.1 فاذا علمت ان سعر الفائدة 6% سنويا فما هو مقدار كل من الفائدتين ومقدار المبلغ المودع؟

س4: اقترض السيد أحمد مبلغا "معينا" على أساس سداده مع فوائده بعد سنة وثلاثة أشهر، بسعر فائدة 6%. وفي تاريخ الاستحقاق طلب تأجيل دفع المبلغ المستحق لمدة ستة أشهر أخرى. مع تحمله فوائد اضافية بسعر 8% سنويا" فكان المبلغ الواجب دفعه في التاريخ الجديد \$ 2236 فكم كان اصل القرض .

س5: أجب عن كلا الفرعين  
أ. ما هو سعر الفائدة الذي يستثمر به السيد محمد مبلغ \$ 1000 لمدة سنة وثلاثة أشهر ليحصل على جملة مبلغ مقدارها \$1100. (5 درجة)  
ب. كم كان أصل القرض المستحق على السيد محمد اذا ما كان الخصم الذي حصل عليه \$ 720 عندما سدد دينه قبل مواعده بسنتين وبسعر خصم 9%. وماهي القيمة الحالية للدين المستحق على السيد محمد علما" ان الفائدة تدفع مقدما". (7.5 درجة)

مع أطيب آهنيانا لكم بالنجاح والتميز

أ.د. منتظر فاضل البطاط  
رئيس القسم

أ.م. د. عقيل عبد محمد عباس  
مدرس المادة



ملاحظة // الإجابة عن خمسة أسئلة فقط بالقلم الجاف الأزرق أو الأسود، ولكل سؤال (10 درجات)

السؤال الأول: الإجابة عن خمس مما يأتي :

- 1- ماهي المؤسسات المالية الوسيطة ؟
- 2- ما هي وظائف المؤسسات المالية ؟
- 3- كيف تميز المؤسسات المالية والمصرفية عن باقي المؤسسات في الاقتصاد ؟
- 4- ما هي شروط الخطر المؤمن ضده ؟
- 5- ما الفرق بين بيع المساومة وبيع الأمانة ؟
- 6- ما الفرق بين السلم والاستصناع ؟

السؤال الثاني: الإجابة بكلمة صح أو خطأ عما يأتي:

- 1- المصارف التجارية مؤسسات مالية غير ودائعية.
- 2- يعد الاحتكار المصرفي من عيوب المصارف ذات الفروع.
- 3- يعرف الفقهاء عقد السلم بأنه "بيع أجل يعاجل".
- 4- مصارف السلاسل تملكها شركة قابضة.
- 5- النقود المصرفية إبرائية نهائية.
- 6- سميت بنوك الاستثمار بهذا الاسم لأنها تقدم قروضاً قصيرة الأجل للتجار.
- 7- في بيع المناقصة يتنافس الباعة في عرض البيع بثمن أقل.
- 8- يقسم التأمين وفق القانون الانجليزي إلى التأمين على الحياة والتأمينات العامة.
- 9- بيع المساومة يظهر فيه البائع رأس مال السلعة.
- 10- المضارب هو الشخص الذي يقدم العمل في عقد المضاربة.

السؤال الثالث: إذا كانت % ح. ق 10% وسقف الائتمان 850 مليون دينار أكمل الجدول الآتي:

المصرف	حجم الودائع مليون دينار	ح. ق.	القروض المتاحة	حصة المصرف من الائتمان	فائض السيولة
الرافدين	790				
البصرة النولي	260				
التجاري العراقي	220				

السؤال الرابع: إذا كانت نسبة الاحتياطي القانوني 10% أكمل بيانات الجدول التالي واحسب :

- 1- الحجم الكلي للودائع في المرحلة الأخيرة 2- مقدار النقود المصرفية في المرحلة الأخيرة.
- 3- نسبة مساهمة البنوك التجارية في عرض النقد.
- 4- نسبة مساهمة البنك المركزي في عرض النقد.

0.82  
0.20  
0.17

الدورة	قيمة الودائع	مبلغ ح ق	مبلغ ح ف قروض
1	1000		
2			
3			
4			
5			
6			

السؤال الخامس: أبرم تاجر 3 عقود تأمين مع 3 مؤمنين على بضاعته ضد الحريق بتاريخ 2017/12/31 تنتهي صلاحية العقود كما مبين في الجدول:

المؤمن	المبلغ	صلاحية عقود التأمين لغاية
1	15000	2019 / 9 / 10
2	13000	2018 / 8 / 25
3	12000	2020 / 3 / 3

وقد تعرضت البضاعة في 2019/1/1 للسرقة ما أدى إلى خسارة قيمتها 10000 دينار، وقد قدرت قيمة البضاعة عند وقوع الحادث 40000 دينار، المطلوب:

- 1- ماهو المبلغ الذي يدفعه كل مؤمن للتاجر؟
  - 2- ما مقدار المبلغ الذي يستلمه التاجر من المؤمنين الثلاثة؟
- السؤال السادس: اختر الإجابة الصحيحة:

- 1- يقوم البنك المركزي بتحويل الأصول النقدية إلى أصول حقيقية عن طريق:
- 2- أ- بيع الذهب في الأسواق العالمية ب- إصدار العملة الوطنية ج- لاشئ مما ذكر
- 2- من أدوات الائتمان طويل الأجل: أ- السندات ب- الكمبيالة ج- كلاهما صحيح
- 3- عقد بين المزارع ومالك الأرض: أ- السلم ب- المزارعة ج- الاستصناع
- 4- المشاركة عقد بين طرفين كلاهما: أ- يقدم العمل ب- يقدم المال ج- كلاهما صحيح
- 5- البيع عقد معاوضة مالية يفيد: أ- ملك المنفعة ب- ملك العين والمنفعة ج- كلاهما
- 6- تجار الأوراق المالية يقومون ب: أ- شراء الأوراق المالية لحسابهم الخاص ب- التوسط بين بائعي ومشتري الأوراق المالية ج-
- 7- المصرف الذي لا يقدم قروضاً هو: أ- البنك المركزي ب- البنك التجاري ج- المصرف الإسلامي
- 8- المصارف التي يملكها أشخاص: أ- مصارف السلاسل ب- مصارف المجموعة ج- كلاهما صحيح
- 9- وظيفة خلق النقود المصرفية أهم وظائف: أ- البنك المركزي ب- البنوك المتخصصة ج- البنوك التجارية
- 10- صناديق الاستثمار التي تستثمر في أسهم الشركات: أ- الصناديق المشتركة لسوق النقد ب- صناديق الأسهم ج- كلاهما صحيح

مع تمنياتنا لكم بالنجاح

أ.د. منتظر فاضل سعد  
رئيس القسم

أ.م.د. علي قاسم العقبى  
مدرس المادة

أ.م. فائزة حسن مسجبت  
مدرس العادة

ع. الحمد

التاريخ: 26 / 9 / 2023  
الوقت: ساعتين  
المادة: الحاسبات



الفصل الأول  
المرحلة الثانية (الصباحي والمسائية)  
2023 - 2022



جامعة البصرة  
كلية الإدارة والاقتصاد  
العلوم المالية والمصرفية

الاجابة على خمسة أسئلة فقط (لكل سؤال 10 درجات) الدور الثاني

س1/ اجب ب صح او خطأ

- 1- تعتبر عملية تكرار البيانات احدى مساوى أنظمة معالجة البيانات التقليدية
- 2- يقصد بصعوبة الوصول الى البيانات هو صعوبة الحصول على بيانات معينة ومحدده
- 3- يعرف نظام قواعد البيانات على انه عبارة عن مجموعه من البرامج التي تمكن المستخدم من الوصول الى المعلومات ومعالجة الملفات المرتبة مع بعضها
- 4- تعرف عملية استرجاع البيانات وعرضها للمستخدم بعملية اخراج التقارير
- 5- تمتاز أنظمة قواعد البيانات بعدم تكرار البيانات

س2/ وضح المفاهيم والمصطلحات التالية:

- 1- التخزين
- 2- تكرار البيانات
- 3- الملف
- 4- وحدات التخزين
- 5- الجداول

س3/ وضح الوظائف الاساسية لنظام معالجة البيانات

س4/ قارن بين أنظمة معالجة البيانات التقليدية وأنظمة قواعد البيانات من حيث

- 1- صيانة البرامج
- 2- امن البيانات
- 3- الوصول الى البيانات
- 4- تمثيل البيانات لواقع المؤسسة

س5/ ما هو الدور الاساسي لبرامج تنظيم قواعد البيانات

س6/ وضح مساوئ ومحددات قواعد البيانات

(مع تمنياتي لكم بالنجاح)

رئيس القسم

أ.د. منتظر فاضل البطاط

مدرس الحاسبة

أ.م. حيدر صلاح هاشم





جامعة البصرة

كلية الإدارة والاقتصاد

قسم العلوم المالية والمصرفية

الدراسات الصباحية والمسائية

المادة : اساليب كمية

المرحلة : الثانية

التاريخ : 2023 / 9 / 19

الزمن : ساعتين

أسئلة الامتحان النهائي / الكورس الثاني

الدراسي 2022 / 2023

الدور الثاني

ملاحظة: الاجابة عن اربعة أسئلة فقط , توزع الدرجات بالتساوي .

السؤال الأول: تتكون المرحلة الثانية في قسمنا من شعبتين فاذا علمت ان عدد طلبة الشعبة الثانية هو نصف عدد طلبة الشعبة الاولى والجدول التالي يوضح نسبة النجاح التي يستهدفها ثلاثة اساتذة لثلاثة مواد هي الاساليب الكمية والرياضيات المالية والادارة المالية ونسب النجاح المتحققة الاجمالية للمواد الثلاث معا والمطلوب:-

1- الصياغة الرياضية لنموذج البرمجة الخطية الذي يعبر عن هذه المشكلة؟

2- ما الشكل المكتوب به النموذج ولماذا؟

3- تحويل النموذج الى الاشكال الاخرى؟

الشعب	المادة	الشعبة الاولى	الشعبة الثانية	نسبة النجاح على مستوى المادة %
	اساليب كمية	55	30	على الاقل 60
	رياضيات مالية	40	45	على الاكثر 80
	ادارة مالية	35	50	ما يعادل 70

السؤال الثاني: / لديك نموذج البرمجة الخطية التالي والمطلوب :-

1- ما الشكل المكتوب به النموذج ولماذا؟

2- تحويل النموذج الى الاشكال الاخرى ؟

$$\text{Min } Z = -2X_1 + X_2 - 3X_3$$

S.t

$$|3X_1| \geq 2$$

$$6X_1 + 3X_2 = -4$$

$$5X_2 - 4X_3 \leq 3$$

$$|X_1| ; X_2, X_3 \geq 0$$

السؤال الثالث : اثبت ان نموذج البرمجة الخطية التالي يعاني من مشكلة ( وجود حل غير معرف ) :

$$\text{Max } Z = 3X_1 + X_2$$

S.t

$$2X_1 \geq 4$$

$$-4X_1 + 8X_2 \geq 16$$

$$2X_1 + 2X_2 \geq 8$$

$$X_1, X_2 \geq 0$$

السؤال الرابع : اوجد حلا لمسألة البرمجة الخطية التالية باستخدام الطريقة البيانية؟

$$\text{Min } Z = 2X_1 + 3X_2$$

S.t

$$X_1 + X_2 \geq 10$$


$$X_1 \leq 8$$

$$X_2 \leq 7$$

$$X_1, X_2 \geq 0$$

السؤال الخامس : املا الفراغات التالية لكل مما يأتي:

- ١- تكون دالة الهدف في الشكل المعياري من نوع.....
- ٢- ان جميع القيود الخاضعة لها دالة الهدف في الشكل الاعتيادي هي من نوع.....
- ٣- يكون عدد المتغيرات في الشكل العام لنموذج البرمجة الخطية هو.....
- ٤- تستخدم الطريقة البيانية لحل نموذج البرمجة الخطية إذا كان يحتوي على..... فقط.
- ٥- يجب أن يتحقق قيد..... في جميع نماذج البرمجة الخطية.
- ٦- يمكن تحويل نموذج البرمجة الخطية من شكل لآخر من خلال بعض.....



أ. د. منتظر فاضل سعد

رئيس القسم




د. طالب حسن

مدرس المادة



م. م. سارة عباس

مدرسة المادة



أ. س. الهادي



كلية الادارة والاقتصاد  
قسم العلوم المالية والمصرفية  
الدراسات الصباحية والمسائية  
المرحلة الثانية

المادة : التسويق المصرفي

الوقت : ساعتان فقط

التاريخ : ٢٠٢٣ / ٩ / ١٣

اسئلة الامتحان النهائي - الكورس الثاني  
للعام الدراسي ٢٠٢٢-٢٠٢٣ للعدد .....

ملاحظة : الاجابة عن اربع اسئلة فقط :

س١: ما هي الاسس التي يركز عليها المفهوم الحديث للتسويق المصرفي ؟

س٢: ما هي الفئات المهمة التي يخاطبها المصرف للترويج عن نفسه ؟ وما هو الهدف من مخاطبتها بالترويج ؟

س٣: يعتبر الجمهور العام من مكونات البيئة التسويقية الجزئية للمصرف ، عرفه وبين مكوناته بالتفصيل ؟

س٤: هناك عدة مزايا للتسويق المصرفي الالكتروني متعلقة بالعملاء ، انكرها بالتفصيل ؟

س٥: ان للخدمة المصرفية عدة خصائص عددها فقط ؟

مع تمنياتنا لكم بالتوفيق والنجاح

ا.د. منتظر فاضل سعد

رئيس القسم

م.م زينب عبدالعزيز عبدالله

مدرس المادة

س.س. الهادي

م.م مرتضى عبدالحسين عبدالكريم

مدرس المادة

المرحلة : الثانية  
المادة : الإدارة المالية  
التاريخ : 2023/ 9 / 14  
الوقت : ساعتان



جامعة البصرة  
كلية الإدارة والاقتصاد  
قسم العلوم المالية والمصرفية  
الدراسات الصباحية والمسائية

أسئلة امتحان الكورس الثاني للعام الدراسي 2022-2023 (الدور الثاني)

نقطة الإجابة عن أربعة أسئلة ( الدرجات توزع بالتساوي )

س1 / نعتد الشركات في هيكلها المالي على مصدرين من الأموال هما رأس المال الداخلي ورأس المال الخارجي وضحهما من خلال الشرح.

س2 / يقوم متراء الائتمان بدراسة Credibility of Borrower للمدين من خلال نموذج مهم يتضمن خمس نواحي عند مع الشرح تلك النواحي ؟ .

س3 / لتسريع تحصيل حساباتها المدينة تدرس شركة النهضة العربية للكتب زيادة نسبة الخصم النقدي وذلك بتغيير شروط البيع الأجل من 10/1، صافي 30 يوم إلى 10/2، صافي 30 يوم ، أن متوسط فترة التحصيل حالياً 43 يوم ويتوقع أن تنخفض إلى 25 يوماً عند تطبيق شروط البيع الأجل الجديدة . ويعتقد أن نسبة الزبائن التي ستحاول الاستفادة من من خصم الدفع النقدي ستزداد من 50% إلى 70% بالشروط الجديدة، أما نسبة الديون المعدومة فستبقى على حالها في حدود الـ 4% من المبيعات. تقدر المبيعات الأجلة السنوية 3500000 دينار وتقدر نسبة التكاليف المتغيرة إلى المبيعات 60%، وأن العائد المطلوب 15%.

المطلوب:-

- 1- ماهو العائد على الاموال المحررة من الحسابات المدينة والناتج عن زيادة خصم الدفع النقدي؟
- 2- ماهي تكلفة الزيادة في الخصم النقدي؟
- 3- هل تنصح بتغيير شروط البيع الأجل في شركة دار النهضة العربية؟

س4 / وضح من خلال شكل مصادر التمويل المتاحة أمام منشأة الاعمال.

س5 / توفرت لديك البيانات الآتية (احتياجات الشركة من المخزون السنوي 100000 وحدة وتكاليف التخزين 20 دينار سعر شراء الوحدة الواحدة 150 دينار تكاليف اعداد الطلبية الواحدة 100 دينار وتقرر الشركة الاحتفاظ بمخزون احتياطي 500 وحدة).

المطلوب:

- 1- TC
- 2- EOQ
- 3- The Order Point
- 4- Reorder time
- 5- مثل من خلال الرسم البياني Order Point و Order time . علماً أن lead time تساوي 1 يوم.

رئيس القسم  
ا. د. منظر فاضل سعد

مع تمنياتي لكم بالموفقية

مدرس المادة  
ا.م.د. محمد جاسم محمد



المادة : حاسبات

المرحلة : الاولى

التاريخ : 16 / 9 / 2023

الوقت : ساعتين

اسئلة امتحان النهائي الكورس الثاني (الدور الثاني) للعام 2022/2023

ملاحظة : الاجابة عن خمسة اسئلة فقط وتوزع الدرجات بالتساوي

من 1 : املا الفراغات التالية :

1. للحصول على التعليمات في برنامج الورد يتم الضغط على زر ..... الموجود لوحة المفاتيح .
2. لحذف كافة الملفات والمجلدات المحذوفة من سلة المحذوفات يتم النقر فوق ..... من شريط الادوات .
3. نسخ الملفات والمجلدات يستخدم الاختصار ..... من لوحة المفاتيح .
4. ..... وهي عبارة عن شريط أفقي وعمودي للتحكم بعرض المستند طوليا وعرضيا .
5. لفتح مستند مخزون سابقاً يستخدم الاختصار ..... من لوحة المفاتيح .

من 2 : اختر رمز الاجابة الصحيحة :

1. يحتوي شريط واجهة المستخدم الرئيسي على ما يلي:  
- الكيويبات .  
- ب- الاوامر .  
- ج- المجموعات .  
- د- كل ما ذكر صحيح .
2. يتم ترتيب نوافذ Windows :  
- بالتتابع .  
- ب- عمودياً .  
- ج- افقياً .  
- د- كل ما ذكر صحيح .
3. لتغير اللغة نضغط على :  
- Alt + shift .  
- ب- Alt+ Ctrl .  
- ج- Ctrl+ shift .  
- د- كل ما ذكر صحيح .
4. إذا أردنا تحديد كامل المستند يستخدم الاختصار :  
- (Ctrl+ O) .  
- ب- (Ctrl+ A) .  
- ج- (Ctrl+ S) .  
- د- (Ctrl+ Z) .
5. لحذف الملف أو المجلد نهائياً يستخدم الاختصار:  
- Alt +Delete .  
- ب- Ctrl + Delete .  
- ج- Shift+ Delete .  
- د- لا شيء مما ذكر .

من 3 : أ- ما هي محتويات شريط العنوان في برنامج مايكروسوفت وورد 2010 ؟

ب- ما هي طرق انشاء مستند فارغ جديد ؟

من 4 : أ- ما هي لوحة التحكم وما هي اهم الايقونات الموجودة فيها (عدد 8 فقط) ؟؟

ب- ما هي طرق حفظ المستند Save ؟

من 5 : أ- ما هي البرامج الملحقة وما هي الخطوات اللازمة للذهاب اليها وما هي اهم هذه البرامج (عدد 6 فقط) ؟

ب- ما هي طرق تغيير اسم الملف أو المجلد ؟

من 6 : أ- ما المقصود بعملية قص الملف أو المجلد؟ مع ذكر طريقتين بالتفصيل لتنفيذ امر القص ؟

ب- ما هي الخطوات اللازمة لاسترجاع الملفات المحذوفة من سلة المحذوفات ؟

مع تمنياتي لكم بالنجاح

أ.د. منتظر فاضل سعد  
رئيس القسم

د. الهيد

م.م. عبدالله محمد راضي  
مدرس المادة

المرحلة : الأولى  
المادة : مبادئ الاقتصاد الجزئي  
التاريخ : 2023/8/31  
الوقت : ساعتين  
للعام الدراسي 2023/2022



جامعة البصرة  
كلية الإدارة والاقتصاد  
قسم العلوم المالية والمصرفية  
الدراسات الصباحية والمسائية  
أسئلة الامتحان النهائي الكورس الثاني الدور (إجمالي) للعام الدراسي 2023/2022

## ملاحظة :- الإجابة عن أربعة أسئلة فقط .

- س (1) اختر الإجابة المناسبة لكل مما يأتي: (12.5 درجة)
- 1- عندما يأخذ الناتج الحدي بالتناقص فإن الناتج الكلي يكون .....
- (a) يتزايد بصورة متزايدة . (b) يتناقص تناقصاً مطلقاً  
(c) لا شيء مما سبق .
- 2- إذا تغير سعر السلعة بنسبة أكبر من نسبة تغير الكمية المعروضة منها فهذا يعني أن العرض يكون .....
- (a) مرن . (b) غير مرن  
(c) لا شيء مما سبق .
- 3- تكون المنفعة الكلية عند أعلى مستوى لها عندما تكون المنفعة الحدية .....
- (a) تساوي صفر . (b) سالبة  
(c) لا شيء مما سبق .
- 4- تعني النقاط الواقعة إلى يمين منحنى سواء ما بانها تعطي اشباعاً .....
- المتحقق من النقاط على هذا المنحنى .
- (a) أقل من . (b) متساوي مع  
(c) لا شيء مما سبق .
- 5- كلما انخفض الفرق بين ما كان المستهلك مستعداً لدفعه وبين ما دفعه فعلاً للحصول على السلعة فهذا يعني .....
- (a) انخفاض فائض المستهلك . (b) ارتفاع فائض المستهلك  
(c) لا شيء مما سبق .
- 6- من العوامل التي تؤدي إلى زيادة مرونة الطلب على السلع والخدمات هو .....
- (a) قصر المدة الزمنية . (b) وجود بدائل للسلعة .  
(c) لا شيء مما سبق .
- س (2) أ- وضح مع الرسم البياني تأثير زيادة الطلب بمقدار أقل من زيادة العرض في طبيعة حالة التوازن التي تتحقق بفعل تفاعل قوى العرض من السلعة مع قوى الطلب عليها في السوق من حيث الأسعار والكميات التوازنية. (6 درجة)
- ب- إذا توفرت لديك البيانات في الجدول التالي عن سلعة ما بحيث أدى انخفاض السعر إلى زيادة الكمية المطلوبة ، المطلوب: احسب المرونة و حدد نوعها . (6.5 درجة)

الكمية	السعر
32.180	6.10
41.230	5.70

س ٣) أ- افترض أن أمام المستهلك سلعتين هما (X) و (Y) وبافتراض أن سعر السلعة  $X=20$  دولار، والسلعة  $Y=10$  دولار، وأن دخل المستهلك هو 130 دولار، وظهرت لدينا المنافع الحدية لكل من السلعتين في الجدول التالي. المطلوب أوجد عدد الوحدات اللازمة من كل سلعة من هاتين السلعتين يستطيع المستهلك شرائها بدخله للحصول على أكبر إشباع ممكن. ( 6.5 درجة )

جدول يبين كميات السلعتين (Y , X) ومنافعهما الحدية

$MU_Y$	$Q_Y$	$MU_X$	$Q_X$
100	1	180	1
90	2	160	2
80	3	140	3
70	4	120	4
60	5	100	5
50	6	80	6

ب- من بين انواع مرونة الطلب هي مرونة الطلب الداخلية، المطلوب: وضع ما المقصود بمرونة الداخلية، ثم بين اهميتها في تحديد خصائص السلع بالنسبة للمستهلكين. ( 6 درجة )

س ٤) أ- وضع ما الفرق بين العرض عديم المرونة والعرض لانهايي المرونة من حيث درجة المرونة ومعامل المرونة. ( 6.5 درجة )

ب- اذا توفرت لديك الكميات الآتية من السلعتين X و Y كما في الجدول التالي، المطلوب: معدل إحلال X بدل Y. ( 6 درجة )

5	4	3	2	1	وحدات السلعة X
6	8	11	15	20	وحدات السلعة Y

س ٥) وضع تقسيم المراحل التي تمر بها العملية الانتاجية لسلعة ما اعتماداً على خصائص العنصر الانتاجي المتغير، ثم حدد هذه المراحل بالشكل البياني. ( 12.5 درجة )

أ. د منتظر فاضل  
رئيس القسم

مع تمنياتنا لكم بالنجاح

أ. د احمد جاسم محمد

مدرس المادة

م. د هادي عبد الواحد جواد

مدرس المادة

المرحلة : الثالثة  
المادة : حاسوب  
التاريخ : 17/19/2023  
الوقت : ساعتان



جامعة البصرة  
كلية الإدارة والاقتصاد  
قسم العلوم المالية والمصرفية  
الدراسات الصباحية والمعتمدة

أسئلة الامتحان النهائي للعام الدراسي 2023/2022 الكورس الثاني/ الدور الثاني

الاسم ..... الرقم ..... الشعبة .....

ملاحظة: الاجابة عن اربع اسئلة فقط

س1/ وضح المفاهيم والمصطلحات التالية:

(تغليف البيانات, وحدة البيانات, المخطط المنطقي, الوجودية, المستوى المفاهيمي)

س2/ وضح بالتفصيل المكونات الأساسية لبيئة نظام قاعدة البيانات.

س3/ وضح المستويات الأساسية لتغليف البيانات بشكل مختصر.

س4/ بين العمليات الأساسية التي يتم القيام بها ضمن إجراءات تغليف البيانات.

س5/ ما هو الهدف الأساسي من وجود قواعد البيانات, وضح بالتفصيل.


مع تمنياتي لكم بالنجاح

أ.د. منتظر فاضل سعد  
رئيس القسم

أ.م. حيدر صلاح هاشم  
مدرس المادة

أ.م. حيدر صلاح هاشم





اسئلة الامتحان النهائي / الكورس الثاني / الدور الأول / للعام الدراسي ٢٠٢٢/٢٠٢٣

اسم ..... الرقم ..... الشعبة .....

لاحظة: الإجابة عن خمس أسئلة لكل سؤال ١٠ درجات. وتكون الإجابة بالقلم الجاف الأزرق والأسود فقط

سؤال الأول / اختر الإجابة الصحيحة

ما زالت هناك صعوبة في برمجيات التجارة الإلكترونية وتكاملها مع شبكة الانترنت حيث توجد حاجة مستمر للتطوير و  
بمبها خدمات الانترنت بالإضافة لتطوير شبكات الحاسوب مما يؤدي أحيانا ؟

أ- هدر الوقت.  
ب- لزيادة الكلفة.  
ج- فقدان المنتج.  
د- لا شيء مما ذكر.

ي تسعى المشترون والبائعون على حد سواء إبقاء بعض المعلومات سرية وإضافة بعض الغموض على انشطتهم واعمالهم  
متعلقة بالتجارة من هنا ادرك الوسطاء هذه النقطة الجوهرية و فهموا دورهم؟

أ- اتخاذ القرارات وتحديد الأسعار.  
ب- الاهتمام بعدم تحديد الهوية الشخصية لكل من البائع او المشتري او كلاهما.  
ج- شراء السلع.  
د- لا شيء مما ذكر.

يحتاج المشتري في التجارة الى الكثير من المعلومات اكثر من حاجة البائع الى المعلومات فالمشتري يريد معرفة؟

أ- طرق الاتصال.  
ب- معرفة مدى جودة المنتج صلاحيته , طرق تخزينه  
ج- أسلوب نقل البضاعة.  
د- لا شيء مما ذكر.

التكنولوجيا التي تتفد الطلب وتسمح للمشتري بتجميع المنتجات التي يود شرائها لحين الانتهاء من عملية التسوق هي ؟

أ- البرمجيات الالكترونية.  
ب- كارتات التعبئة.  
ج- سلة المشتريات الإلكترونية.  
د- لا شيء مما ذكر.

قدرة الشركات في الحصول على العدد الكبير من المستخدمين الذين يستخدمون مواقع الشركة مبكراً قبل أن تبدأ الشركات  
بالخسارة ولا يمكن لهذه الشركات أن تحصل على هذا العدد المطلوب من الزبائن إذا لم يتوفر لديها ؟

أ- المصدقية والقدرة على المنافسة مع الشركات الأخرى.  
ب- التواجد كنزوع في الدول المضيفة.  
ج- تعبئة وتغليف المنتجات.  
د- لا شيء مما ذكر

السؤال الثاني / اجب عن الآتي بإجابات قصيرة:

١. تعد الخدمات التي يقدمها القانمين على التجارة الالكترونية أداة لتلبية رغبات الشركات والمستهلكين  
والمدراء في؟

عندما نتكلم عن هيئة السوق الإلكترونية فإنها ليست مركز للتجارة او بناية او ما شابه ذلك بل هو؟

التجارة الإلكترونية ما بين المؤسسات تمثل جميع النشاطات الداخلية للمؤسسة وغالباً تتم على شبكة  
أخوية للشركة وتهدف؟

استمرارية الوقت تعني؟

النماذج التي ظهرت بظهور التجارة الإلكترونية؟

سؤال الثالث / اجب بصح او خطأ وصحح الخطأ أينما وجد:

١. تعد شبكات الاتصالات غير كفوة وبخاصة في مجالات شبكات الهواتف المحمولة والتي تعد من أهم  
لمعوقات غير التقنية.

٢. ان سوق الاعمال له الدور الرئيس والمركزي في عالم الاقتصاد من حيث توفير التسهيلات في تبادل  
لمعلومات والمنتجات والخدمات وطرق الدفع بين المشاركين.

٣. استطاعت الشركات الكبيرة ان تحصل على العدد الاكبر من الزبائن حيث تبين ان أكثر من ٥٨% من  
نشطة التجارة الإلكترونية تعود للشركات الكبرى.


٤. الذين يقدمون خدمات الدعم هم مسؤولي الشحن الذين يسهمون في نجاح العمليات بين البائع  
والمشتري.

٥. معظم البوابات على شبكة الانترنت هي بوابات غير تجارية هدفها التعامل مع المستخدم وتقديم المعلومة  
العامة والخاصة بواسطة واجهة المستخدم.

السؤال الرابع / تحتاج التجارة الإلكترونية الي مجموعة من الشروط التي ينبغي توافرها لنجاحها؟ اذكرها  
بالتفصيل

السؤال الخامس/ تتعرض التجارة الإلكترونية الي مجموعة من المخاطر، ولذلك يجب وضع بعض الطرق  
للسيطرة على هذه المخاطر؟ وضح ماهي الحلول المقترحة للسيطرة على مخاطر التجارة الإلكترونية  
بالتفصيل؟

السؤال السادس/ يعد الكتالوج دليل بالمنتجات او الخدمات فمن خلاله يتعرف المشتري على المنتج  
والخدمات المعروضة من قبل الشركة المصنعة؟ من خلال ذلك قارن بين الكتالوجات الورقية والإلكترونية



الأستاذ الدكتور  
منتظر فاضل سعد  
رئيس القسم



الأستاذ المساعد الدكتور  
احمد جبر سالم  
مدرس المادة



التجارة الإلكترونية  
الجامعة العراقية  
الكلية الاقتصادية  
الجامعة العراقية  
الكلية الاقتصادية

المادة: المحاسبة المتوسطة  
الدراسات: الصباحية/المسائية  
التاريخ: 2023 / 8 / 31  
الوقت: ساعتان



أسئلة الامتحان النهائي  
للفصل الدراسي الثاني 2022-2023  
الدور (الأول)



بصحة الشركة  
رئيسة المصالح  
مادة البصرة  
الإدارة والاقتصاد  
العلوم المالية  
المصرفية

ملاحظة/ الإجابة عن أربعة أسئلة فقط وتوزع الدرجة بالتساوي.  
س1// هناك مجموعة من المفاهيم مرتبطة بالاستثمارات سواء كانت الاستثمارات اسهم ام سندات؟ اذكرها بالتفصيل.

س2// توفرت لديك المعلومات التالية من ميزان المراجعة لشركة البصرة التجارية في 2020/1/1.  
مدينةون 35000 دينار، مخصص الديون المشكوك فيها 4000 دينار، اجمالي المبيعات 100000 دينار،  
30% مبيعات اجلة، مردودات المبيعات عن المبيعات الأجلة 2000 دينار، المقبوضات النقدية من  
المدينين خلال العام 24700 دينار، وعند فحص حساب المدينين نهاية السنة تقرر الآتي:  
1- شطب دين شركة النور البالغ 1300 دينار والناشيء خلال العام 2020.  
2- شطب دين بذمة شركة النور قيمته 3000 دينار يعود لعام 2019.  
3- هناك دين سبق شطبه في عام 2018 يعود للمدين سعيد بمقدار 1000 دينار قام بتسديده في  
2020/8/30 بعد تيسر حالته المادية.

المطلوب// 1- تسجيل القيود اليومية اللازمة لاثبات عمليات الشطب أعلاه  
2- اجراء قيود التسوية اللازمة، وعمل مخصص للحسابات المشكوك فيها نهاية السنة المالية  
بنسبة 5% من رصيد المدينين في اخر المدة.

س3// بتاريخ 2018/1/2 اشترت شركة النسيم ماكينة لصناعة الايس كريم بسعر 1,000,000 مليون  
دينار، وبلغت مصاريف النقل والنصب التشغيل 200,000 الف دينار، وقدر العمر الإنتاجي للماكينة بأربع  
سنوات، وقيمة الانقراض 200,000 الف دينار.  
المطلوب// احتساب الاندثار السنوي للماكينة بطريقة القسط الثابت بجدول فقط.

س4// بتاريخ 2020/2/5 اشترت شركة البصرة للاستثمار مجموعة من اسهم شركة (أ) و(ب) و(ج)  
وكالتالي:

ت	عدد الأسهم	سعر السهم/ الواحد
أ	1000	100
ب	1000	200
ج	2000	100

- بتاريخ 2020 / 8 / 1 باعت الشركة 50% من اسهم شركة (أ) بسعر 50,000 الف دينار، و50% من اسهم (ب) بسعر 100,000 الف دينار.
- بتاريخ 2020/12/20 استلمت الشركة مقسوم أرباح عن الأسهم التي تمتلكها وكالتالي: 4 دينار عن اسهم شركة (أ) و6 دينار عن اسهم شركة (ب) و2 دينار عن شركة (ج)  
المطلوب// تسجيل القيود اليومية اللازمة للعمليات أعلاه.

من 5 // بتاريخ 2018/1/1 اشترت شركة النرجس سندات قيمتها الاسمية 100,000 الف دينار، بمبلغ 10,000 الف دينار، وبفائدة سنوية 10% تدفع في 1/1 من كل سنة، وتستحق السندات بتاريخ 2020/1/1. المطلوب // تسجيل القيود اليومية اللازمة للعمليات أعلاه.

مع تمنياتنا لكم بالنجاح

ع. الحسي



مدرس المادة  
م.م سلام صدام مهر



رئيس القسم  
أ.د. منتظر فاضل سعد

# المرحلة الثالثة



أسئلة الامتحان النهائي الدور ( الثاني )

لاحظه :-1- اكتب رقمين بعد الفارزة و ثلاثة ارقام عند احتساب الفرق بين معدلات الفائدة .  
الاجابة على اربعة اسئلة فقط .

1) ضع العلامة المناسبة امام العبارات التالية :- (20 درجة )

- 1- الاسهم من اكثر الاوراق المالية تداولاً في سوق ادوات الدين ؟
- 2- تؤدي المؤسسات المالية الوسيطة الدور الاكبر في تحقيق التوازن ؟
- 3- دفع جزء من المبلغ و بعض الفوائد بشكل دوري، تعبر عن الفائدة البسيطة .
- 4- عند اقتراض مبلغ ( 100 ) دولار لمدة خمس سنوات بفائدة 0.05 عليك دفع 127 دولار في المستقبل .
- 5- القيمة الحالية لمبلغ 250 دينار و الذي تدفع بعد سنتين بسعر فائدة 0.15 هو 207 دينار .
- 6- القيمة الفعلية للسهم العادي هي قيمته السوقية ؟
- 7- يعد السهم العادي مصدر تمويل دائم .
- 8- اصدار مزيد من الاسهم العادية يزيد من امكانيات الشركة على اصدار السندات
- 9- لا يمكن تحويل السهم الممتاز الى سهم عادي .
- 10- لا تتمكن جهة الاصدار من استدعاء السهم الممتاز .
- 11- من السهولة حساب القيمة الحقيقية لأي ورقة مالية .
- 12- يعد حفظ التنوع الحيوي من خطوات عملية اصدار السندات الخضراء .
- 13- اليورو دولار اكثر مخاطرة من شهادات الابداع المحلية .
- 14- شهادات الابداع المحلية اكبر سيولة من اليورو دولار .
- 15- عملت مؤشرات اسواق المال على قبس تحركات السوق في الاجل الطويل .

16- احدى اختلافات مؤشرات الاسهم فيما بينها هو طريقة حساب متوسط المؤشر .

17- مؤشر S&P500 يعد من المتوسطات الحسابية .

18- قيمة المعلومات تنعكس من خلال ثقة المستثمرين فقط .

19- المعلومات هي مواد خام للبيانات .

20- نظام المعلومات يعد اداة للمنافسة بين اسواق المال .

اصدرت شركة زين للاتصالات سهمها بسعر 40 دينار و قامت بتوزيع ارباح بمقدار دينارين و نصف علما بان معدل نمو توزيعات الارباح بلغ 0.08 .

بصفتك مستثمرا ما هو معدل العائد الذي يشجعك على الاستثمار في شركة زين للاتصالات . (10)

س(3) اجب باختصار. ملاحظة الاجابة لا تتجاوز نصف صفحة (10)

أ- جوهر نظرية اسواق المال الكفوة تعتمد على عنصرين .  
نظرية البين -  
شبكة المعلومات

ب- حدد مستويات التعامل في مؤشر NASDAQ .

س(4) حصلت احدى الشركات على قرضا مدته خمس سنوات من اصدار خمسة عشر الف سند بقيمة اسمية مئة دينار للسند الواحد و بسعر فائدة 0.09 سنويا و كانت عمولة المصرف موزع السندات و تكاليف الاصدار و الرهن على التوالي ( 0.03 و 15000 و 1800 ) . المطلوب حساب تكلفة التمويل . (10)  
المرحله  
كمول

س(5) احسب القيمة الحقيقية للسهم في حالة النمو الثابت 0.12 اذا علمت بان مقسوم الارباح في حالة النمو الصفري كان 4 دينار ، و معدل العائد المطلوب للشركة 0.17 . (10)

القيمة الحقيقية = مقسوم الارباح / (1 - معدل العائد)

مع تمنياتنا لكم بالنجاح

أ.د. منتظر فاضل سعد  
رئيس القسم

أ.د. احمد جاسم محمد  
مدرس المادة

المادة : نظم المعلومات المصرفية  
الوقت : ساعتان  
التاريخ : ٢٠٢٣ / ٨ / ٢٠



جامعة البصرة  
كلية الإدارة والاقتصاد  
قسم العلوم المالية والمصرفية



الامتحان النهائي  
المرحلة الأولى - الدور الثاني  
2022-2023

**ملاحظة: اجب من اربعة اسئلة فقط على ان يكون السؤال الاول من ضمنها. (4 درجات)**

**السؤال الاول:** شركة الواحة العربية تبلغ تكلفة منتجاتها \$120 ويبيع بسعر يزيد بمقدار 25% عن الكلفة وقد ثبتت الاحصائيات داخل الشركة ان هناك ما نسبته 10% من الإنتاج هو انتاج معيب يتم استرداده من قبل العملاء ويترتب على ذلك تكاليف استرداد بنسبة 8% من سعر البيع علما ان الإنتاج السنوي هو 100,000 وحدة. وقد وجدت الشركة نظام فحص لمعالجة مشكلة الإنتاج المعيب من خلال انشاء نظام فحص للإنتاج يستطيع ان يوفر معلومات مؤكدة بنسبة 100% بحيث يتم عزل الوحدات المعيبة واتلافها قبل البيع أي يتم بيع الوحدات الجيدة فقط وان تكلفة النظام \$ 12,500 شهرياً

**المطلوب:** حساب منفعة القرار قبل وبعد تطبيق النظام وحساب قيمة المعلومة وإذا كنت متخذ قرار بما تنصح الشركة

**سؤال الثاني: اجب عن ما يأتي ؟ (لكل فرع 6 درجات)**

- ما مفهوم الترميز الكمبيوترى وما العوامل الواجب مراعاتها للبيانات المحاسبية عند وضع هذا الترميز؟
- ما هي البيانات (Data) وما هي المعلومات (Information) وضحهما ثم قارن فيما بينهما

**سؤال الثالث: أجب فرعين فقط (لكل فرع 6 درجات)**

- ما هي الطرق المستخدمة في حماية المعلومات المحاسبية من خلال منع الاختراق؟
- وضح بالتفصيل مجالات التكنولوجيا المالية؟
- عدد اهم أسباب فشل تطبيق نظام ERP

**سؤال الرابع: اجب بكلمة صح او خطأ مع تصحيح الخطأ ان وجد. (12 درجة لكل نقطة درجتان)**

- Timeliness يقصد بها أن المعلومة تكون معروضة بطريقة سهلة الاستيعاب والفهم ويمكن استخدامها من قبل المستخدم.
- من وظائف مخططات تدفق البيانات DFD انها أداة لإنشاء نموذج يسمح لمتخصص في النظام أن يكون قادراً على وصف النظام ليكون شبكة من العمليات الوظيفية.
- الهدف الأساسي من مستند قيد اليومية تسجيل المبالغ النقدية والشكات المدفوعة
- وظيفة تجميع البيانات (Collection Data) تتحقق خلال مرحلة التشغيل وعادة تشمل عدة خطوات وإجراءات مثل التصليف والنسخ والترتيب.
- الذكاء الاصطناعي Artificial Intelligence هو أحد تطبيقات نظام الخبرة المصرفي Experience System.
- الاعتمادية Reliability هي من صفات المعلومات حيث تفيد أن المعلومات تكون خالية من الأخطاء والتحيز وتعكس الأحداث والنشاطات بمصادقية



## السؤال الخامس: اختر الاجابة الصحيحة لكل مما يلي: (12 درجة لكل نقطة درجتان)

1- تعد من الشركات الرائدة في مجال تطبيقات ERP وتعتبر ثالث أكبر مورد لنظام ادارة المؤسسات :-

ب - شركة Epicor  
د - غير ذلك (الذكره)

ا - شركة SAP  
ج - شركة Infor

2- حساب الايرادات والمصروفات من الحسابات:  
أ - الاسميه التي تظهر بقالمة المركز المالي  
ج - كلا الخيارين صحيح  
ب - الحقيقية التي تظهر بقالمة كشف الدخل  
د - غير ذلك (الذكره)

3- طبيعة الاهداف ونوعية المعلومات عند مستوى الادارة العليا في المصارف تكون :-  
أ - اهداف استراتيجية وبمعلومات داخلية  
ج - اهداف استراتيجية وبمعلومات خارجية فقط  
ب - اهداف تنظيمية وبمعلومات داخلية وخارجية  
د - غير ذلك (الذكره)

4- تعد بمثابة المنتج النهائي للعمليات المحاسبية حيث تمثل ناتج العمل المحاسبي في أي وحدة اقتصادية  
أ - وظيفة توفير المعلومات  
ج - الدليل المحاسبي  
ب - القوائم والتقارير المالية  
د - غير ذلك (الذكره)

5- لا يعد ايراداً او مصرفاً للفترة المالية الا فقط ما يخصها وبغض النظر عن الاستلام او الدفع الفعلي وفق مبدأ:  
أ - الاساس النقدي  
ج - كلا الخيارين صحيح  
ب - اساس الاستحقاق  
د - غير ذلك (الذكره)

6- هو أحد مكونات المجموعة المستندية والهدف منه تسجيل المبالغ النقدية والشيكات المدفوعة  
أ - قيد اليومية  
ج - مستند الصرف  
ب - وصل القبض  
د - غير ذلك (الذكره).

(مع غنياقا لكم بالنجاح)

رئيس القسم  
أ.د. منتظر فاضل البطاط

م.م. احمد عبد الكريم الياسين

مدرس المادة

م.م. احمد سامي الديراوي

أ.م. د. عمار يوسف ضجر  
معاون العميد لشؤون الطلبة



ملاحظة: الإجابة على أربعة أسئلة فقط، وتوزع الدرجة بالتساوي [٥، ١٢ درجة لكل سؤال]

يقع على محاسبة التكاليف بالمحاسبة التحليلية لأنها:

تقدم بيانات مالية وكمية  
تقدم بيانات دورية وحسب حاجة الإدارة  
تقدم بيانات تفصيلية  
تقدم مفرد أعلاه  
تقدم بالأصول:

الصحة بالموارد يتوقع الحصول منها على منفعة.  
التكلفة غير المستنفذة.

كلا الإجابتين صحيحة

كلا الإجابتين خاطئة

ليس المدى الملائم

تقدم الخدمات المقدمة

تقدم المبيعات

تقدم الانتاج

لا شيء مما ذكر

تقدم التكاليف الى مباشرة وغير مباشرة حسب علاقتها

بموضوع التكلفة

بوحدة التكلفة

كلا الإجابتين صحيحة

كلا الإجابتين خاطئة

تقدم التكلفة الى:

مصرف وخسارة.

مصرف وأصل.

مصرف وخسارة

لا شيء مما ذكر.

٢- يتغير متوسط التكلفة الكلية من فترة لآخرى بسبب التكاليف:

أ- متغيرة

ب- ثابتة

ج- مختلطة

د- لا شيء مما ذكر.

٤- العلاقة بين متوسط التكلفة الثابتة ووحدة الكلفة:

أ- مباشرة

ب- غير مباشرة

ج- كلا الإجابتين صحيحة

د- كلا الإجابتين خاطئة

٦- للحصول على بيانات كلفوية أكثر موضوعية يفضل:

أ- الحصول سجلات محاسبة التكاليف عن سجلات المحاسبة المالية

ب- دمج سجلات محاسبة التكاليف مع سجلات المحاسبة المالية

ج- كلا الإجابتين صحيحة

د- كلا الإجابتين خاطئة

٨- يمكن ان يتعرض المصرف لخسارة كبيرة عند تولفه عن الصر

بسبب التزامه بدفع

أ- تكاليف متغيرة عالية.

ب- تكاليف ثابتة عالية.

ج- كلا الإجابتين صحيحة

د- كلا الإجابتين خاطئة

١٠- يقصد ب محرك التكلفة:

أ- أي عامل يؤثر على التكلفة.

ب- العامل الرئيسي المسبب للتكلفة.

ج- كلا الإجابتين صحيحة

د- كلا الإجابتين خاطئة

٢٠- فيما يلي البيانات الخاصة بفرع أحد المصارف التجارية لشهر حزيران/٢٠١٦:

بلغت تكاليف إنتاج الخدمات المصرفية لهذا الشهر:

١٢٠٠٠٠ رواتب الأقسام الفنية

٤٢٣٠٠٠ الفوائد والعمولات المدينة

٥٠٠٠٠ رواتب مشرفي الأقسام الفنية (٥٠% منها ثابتة)

٢٠٠٠٠ مواد صيانة (٣٠% منها متغيرة)

٥٠٠٠ أئتمار الأصول

١٠٠٠٠ م. تأمين

بلغت حصة الفرع من التكاليف التسويقية (٦٠% منها متغيرة)

بلغت حصة الفرع من التكاليف الإدارية ٦٢٠٠٠ دينار.

بلغت الفوائد والعمولات الدائنة ٧٠٠٠٠٠ دينار.

مطلوب: // اعداد قوائم التكاليف وكشف الدخل وفقا لنظرية التكاليف الكلية.

س ٣ - أجب عن أحد الفرعين :

أ - أكمل معلومات الجدول التالي ، مع بيان المعادلات المستخدمة لاستخراج كل قيمة : [٨ درجات]

حجم النشاط	متوسط التكاليف الكلية	مجموع التكاليف الكلية	متوسط التكلفة المتغيرة	مجموع التكاليف المتغيرة	مجموع التكاليف الثابتة
١٥٠	٣٠٠	?	?	?	?
?	?	٥١٣٠٠	٢١٠	?	?

علما بأن المدى الملائم يبدأ من صفر ولغاية ٤٠٠ وحدة .

ب- إذا كان حجم النشاط عند نقطة التعادل هو ٤٠٠ وحدة، وتشكل المساهمة الحدية ٣٠% من سعر البيع الربحي ١٥٠ دينار، ماهو حجم النشاط الذي يحقق صافي ربح قدره ٤٥٠٠ دينار ؟

س ٤- فيما يلي البيانات المستخرجة من سجلات احد المصارف التجارية لشهر ايلول / ٢٠٢١ :

- أولاً- الرواتب والأجور
- رواتب الإدارة العامة للمصرف ٧٥٠٠٠
  - رواتب قسم القروض ١٥٠٠٠٠
  - رواتب مشرفي الأقسام الفنية ٦٠٠٠٠ ( ٥٠% ثابتة )
  - رواتب قسم التسويق ٥٠٠٠٠ ( ٣٠% متغيرة )
  - ثانياً- الفوائد والعمولات المدينة
  - ثالثاً- المواد ومصروفات أخرى
  - مواد صيانة ٢٥٠٠٠٠
  - قرطاسيه لقسمي القروض والودائع ٢٠٠٠٠ ( ٧٠% ثابتة )
  - قرطاسيه ومواد مختلفة للإدارة ٣٠٠٠٠ ( ٦٠% متغيرة )
  - مواد دعاية و اعلان ١٦٠٠٠
  - م. كهرباء ٢٢٠٠٠
  - ائذثار أصول ثابتة ١٥٠٠٠ ( توزع بالتساوي بين الأقسام )
  - تأمين أمناء الصندوق ٢٤٠٠٠
  - الإيجار ١٥٠٠٠
  - رابعاً- الفوائد والعمولات الدائنة ٢٧٠٠٠ ( توزع بالتساوي بين الأقسام )
  - المطلوب // ١- تبويب عناصر التكاليف أعلاه تبويبا وظيفيا وحسب علاقتها بوحدة الخدمة المصرفية وحجم النشاط
  - ٢- إعداد كشف الدخل على وفق النظرية المتغيرة .

س ٥- فيما يلي البيانات المستخرجة من سجلات احد المصارف التجارية عن شهر حزيران / ٢٠٢١ :

- ١- تكاليف إنتاج الخدمات المباشرة :- ٣٨٠٠٠٠٠ دينار فوائد و عمولات، ٢٢٠٠٠٠٠ رواتب .
  - ٢- تكاليف إنتاج الخدمات غير المباشرة ٣٥٠٠٠٠٠ دينار ( ٤٠% منها ثابتة ) .
  - ٣- تكاليف تسويقية : ٢٠٠٠٠٠٠ دينار ( ٦٠% منها ثابتة ) .
  - ٤- تكاليف إدارية وتمويلية ١٠٠٠٠٠٠ دينار ( ١٠% منها متغيرة ) .
  - ٥- فوائد و عمولات دائنة ١٢٦٠٠٠٠٠ دينار .
  - ٦- بلغت الخدمات المباعة ١٨٠٠٠ خدمة .
- المطلوب // إعداد قائمة التكاليف وفقا لنظريتي التكاليف الكلية والمتغيرة

أ. د. منتظر فاضل سعد  
رئيس القسم

مع تمنياتنا لكم بالنجاح  
م. حسام احمد الهاشمي  
مدرس المادة

م. خديجة كاظم التميمي  
مدرسة المادة

الس. العبد



المادة: إدارة المصارف  
المرحلة: الثالثة  
التاريخ: ٢٠٢٣ / ٨ / ٢٠  
الزمن: ساعتان

أسئلة الامتحان النهائي للكورس الأول  
لعام الدراسي 2023/2022

جامعة البصرة  
كلية الإدارة والاقتصاد  
قسم العلوم المالية والمصرفية  
الدرج - ر

نقطة : اجب عن اربع أسئلة ولكل سؤال 12,5 درجة  
وضح بالتفصيل ما يلي : (12,5 درجة)

- 1- ما هي المخاطر المصرفية ؟ وما هي أنواعها ؟
  - 2- كيف تتم إدارة المخاطر المصرفية وما هي أنواع تلك الإدارات ؟
- ما هي ربحية المصرف وما أهميتها ؟ وما هي العوامل التي تؤثر على ربحية المصرف ؟ وضح ذلك بالتفصيل ؟  
(درجة 12,5)

ظهرت البيانات التالية في سجلات مصرف الأهلي التجاري في 2022/12/31 وكما يلي : (12,5 درجة) .

- 1- رصيد المصرف من الودائع 500000 دينار .
  - 2- رصيد المصرف لدى البنك المركزي 100000 دينار علما ان نسبة الاحتياطي القانوني 20% .
  - 3- الاحتياطيات الأولية لدى المصرف 200000 دينار وكانت نسبة الصيد في العام 2021 هي 20% ونسبة القطاع المصرفي 70% .
  - 4- رصيد استثمارات المصرف 250000 دينار .
  - 5- كانت نسبة السيولة القانونية في عام 2021 للمصرف 90% ونسبة سيولة القطاع المصرفي 80% .
- المطلوب / قياس سيولة المصرف الأهلي التجاري ؟

وضح عملية اشتقاق الودائع معتمدا على وديعة مقدارها 3000 مليون دينار , بالحالات التالية : (12,5 درجة)

- 1- عند عدم وجود احتياطي قانوني ؟
- 2- عند وجود احتياطي قانوني بنسبة 20% ؟
- 3- عند وجود تسرب بنسبة 40% ؟
- 4- استخراج القوة الاستثمارية للوديعة ؟

مر5 : ظهرت البيانات المالية التالية في سجلات المصرف سومر التجاري في 2022/12/31 وكما يلي : (المبلغ بالعملة المحلية)  
 الودائع الجارية 700000 دينار , الودائع التوفير 600000 دينار , الودائع الثابتة 500000 دينار , القروض وحقوق المساهمين 300000 دينار .

قام المصرف بتوزيع أموال المصادر والسياسات الثلاثة بنسب التالية : (12,5 درجة)

الودائع الجارية (الاحتياطيات الأولية 60% , الاحتياطيات الثانوية 30% , القروض والسلف ؟) , الودائع التوفير (الاحتياطيات الأولية 40% , الاحتياطيات الثانوية 50% , القروض والسلف ؟) , الودائع الثابتة (100% القروض والسلف) , القروض وحقوق الملكية ( القروض والسلف 40% , الاستثمارات طويلة الأجل ؟) .

الاستخدامات	السياسة المتحفظة	السياسة المعتدلة	السياسة المخاطرة
الاحتياطيات الأولية	35%	؟	20%
الاحتياطيات الثانوية	20%	15%	؟
القروض والسلف	؟	55%	65%
الاستثمارات ط , ج	5%	5%	5%

المطلوب : 1- وضع مع الرسم أسلوب مخصص الأموال ؟

2- وضع مع الرسم أسلوب مجمع الأموال على وفق السياسات الثلاثة ؟

أ. د. محمد سعيد

تمنيتي لكم بالنجاح

أ. د. منظر فاضل سعد  
 رئيس القسم

أ. د. نعيم صباح جراح  
 مدرس المادة

م. د. احمد رسن البهادلي  
 مدرس المادة

المادة : بحوث عمليات

المرحلة : الثالثة

التاريخ : 2023/8

الزمن : ساعتين



التعليم العالي والبحث العلمي  
جامعة البصرة  
كلية الإدارة والاقتصاد  
العلوم المالية والمصرفية  
المساحة والمحاسبة

اسئلة امتحان النهائي الكورس الاول (الدور الثاني) لعام 2022/2023

نظرة : الاجابة عن اربعة اسئلة فقط وتوزع الدرجات بالتساوي

1 // اختر رمز الاجابة الصحيحة لكل من النقاط الاتية :

1. من مميزات الشكل العام لنموذج البرمجة الخطية هي:

أ- دالة الهدف من نوع Min Cost .

ب- قيود النموذج من نوع المساواة .

ج- قيود النموذج من نوع اكبر او يساوي .

د- كل ما ذكر صحيح .

2. اذا علمت ان الكميات المنتجة من قبل شركة الهدى هي 100 وحدة للنوع الاول و 50 وحدة للنوع الثاني , واذا علمت ايضا ان دالة الهدف الخاصة بالشركة كانت على النحو الاتي  $Min\ cost = 3X_1 + 5X_2$  فما مقدار

الربح الاجمالي :

أ- 550 دولار .

ب- 200 دولار .

ج- 450 دولار .

د- لا شيء مما ذكر .

3. يتم اعتماد الطريقة المبسطة في حل مسائل البرمجة الخطية في حال :

أ- احتواء النموذج على متغيرين فقط .

ب- احتواء النموذج على متغيرين أو اكثر .

ج- احتواء النموذج على متغير واحد فقط .

د- لا شيء مما ذكر .

4. المتغير الداخل في الطريقة المبسطة (Simplex Method) هو المتغير :

أ- الذي يقابل اعلى رقم سالب في R.H.S .

ب- الذي يقابل اكبر أو اعلى رقم بإشارة سالب في صف Z .

ج- الناتج من خلال قسمة R.H.S على المتغير الداخل واختيار اقل حاصل قسمة د- لا شيء مما ذكر .

5. دالة الهدف الاتية خاصة بشركة الانوار  $Max\ profit = 6X_1 + 10X_2$  الى ماذا يشير الرقم 10 :

أ- ربح الوحدة الواحدة من السلعة الاولى .

ب- ربح الوحدة الواحدة من السلعة الثانية .

ج- ربح الوحدة الواحدة من السلعة الاولى .

د- ربح الوحدة الواحدة من السلعة الثانية .

6. من شروط الشكل الاعتيادي لنموذج البرمجة الخطية هو :

أ- قيود النموذج من نوع اصغر او يساوي .

ب- دالة الهدف من نوع Min cost .

ج- جميع القيود الخاضعة لها دالة الهدف من نوع مساواة .

د- لا شيء مما ذكر .

2 // جد الحل الامثل لنموذج البرمجة الخطية الاتي باستخدام الطريقة المبسطة (Simplex Method) :

$$Max\ Profit = 5X_1 + 10X_2$$

s.to

$$3X_1 + 6X_2 \leq 12$$

$$2X_1 + 8X_2 \leq 24$$

$$X_1, X_2 \geq 0$$

س3 // اذا توفر لديك نموذج البرمجة الخطوية ادناه والخاص بشركة الخليج :

$$\text{Min cost} = 20X_1 + 30X_2$$

s.t

$$5X_1 + 10X_2 \geq 90$$

$$4X_1 + 3X_2 \geq 48$$

$$X_1, X_2 \geq 0$$

المطلوب : بيان الحجم الأمثل الذي يمكن ان تنتجه شركة الخليج من كلا السلعتين والذي يحقق اعلى ربح  
الطريقة البيداغوجية .

س4 // شركة العجين تقوم بإنتاج صلعتين حيث تدخل كل سلعة في ثلاثة مراحل انتاجية والجدول الاتي يبين عدد  
المتاحة في المراحل الانتاجية وكلفة الوحدة الواحدة لكل سلعة :

السلعة	الاولى	الثالثة	المتاحات المتاحة
المرحلة الانتاجية الأولى	2	3	لا تقل عن 50 ساعة
المرحلة الانتاجية الثانية	1	1	لا تقل عن 40 ساعة
المرحلة الانتاجية الثالثة	2	1	لا تقل عن 30 ساعة
كلفة الوحدة الواحدة	\$6	\$8	

المطلوب : صياغة النموذج الرياضي للشركة ؟

س5 // حول نموذج البرمجة الخطوية الاتي الى الشكل القياسي :

$$\text{Min cost} = 3X_1 + 9X_2$$

s.t

$$4X_1 + 5X_2 \leq -10$$

$$|7X_1 + 3X_2| \leq 20$$

$$8X_1 + X_2 = 40$$

$$X_1, X_2 \geq 0$$

س. العبد  
M

مع تمنياتنا لكم بالنجاح

أ.د. مفاتيح فاضل  
رئيس القسم

م.م. عبدالله محمد راضي  
مدرس المادة

م.م. حسن حيدر المبارك  
مدرس المادة



Course name: English third stag M&E vning study , Date: 7/7/2023, Total Mark: 50, Time: 2 H

Name \_\_\_\_\_ no: \_\_\_\_\_

**Q1 : write just one ( 12.5 mark )**

- A- Write an article (150 -200 words) about bank . the concept , What are the types of banks and what is their role in the economy ?  
B- Write an article (150 -200 words) about Finance . the concept , Finance and what are its types.

**Q2: Put in the blanks one of the words in brackets ( 12.5 mark )**

- 1- Jamal likes swimming, ---- he dislikes running. ( but – so )
- 2- A dog is faster ----- an elephant. ( the – than )
- 3- ---- he was working, he often listened to music. ( while – because )
- 4- Erbil is beautiful ----- the spring time . ( in – at )
- 5- I wake up every day ----- 6:15 AM. ( in – at )
- 6- He gives ---- the money . ( I – me )
- 7- .did you see Mohammed last week? yes, I saw ----last week ( her – it )
- 8- Those birds are lovely . look at ----- . ( our – us )

**Q3 : Explain the underlined word ( 12.5 mark )**

- 1- live . ( verb – adjective )
- 2- where ( pronoun – conj. )
- 3- The reason ( article – preposition )
- 4- May is a month( noun – pronoun )
- 5- Accounting . ( verb – noun )
- 6- Children ( verb – noun )
- 7- hot countries. ( adverb – adjective )
- 8- It is . ( noun – pronoun )




**Q4: answer the following choose the right answer : ( 12.5 mark )**

- 1- ----- deals with the sources of funding and the capital Structure of Corporations.  
a- Public finance . b- Corporate finance .
- 2- Determination Required expenditure of a public sector, revenue Sources and----- .  
a- Allocate financial b- The budgeting Process.
- 3- The traditional payment systems like -----.  
a- electronic funds transfers. B - cash payment.
- 4- At the present time the financial activity is expands very -----.  
a- Slowly . b- Badly . c - quickly.
- 5- there are Islamic banks which operate according to -----.  
a- Banking law . B- Finance law . C -Islamic law.
- 6- The human body temperature is ----- ( a- 38 b-37 )

**Q5: Translate the following financial terms into Arabic: ( just 8 ) ( 12.5 mark )**

- 1- A financial system
- 2- global, regional or firm level.
- 3- the financial activities
- 4- the company.
- 5- revenue.
- 6- expense table.
- 7- wages .
- 8- balance sheet .,
- 9- financial institutions,
- 10- financial markets,

*Good Luck*

  
**Assist Prof. Dr. Radhi Obaid**  
Course instructor

  
**Prof. Dr. Muntadar saad Albattat**  
Head, Department of Finance

# أسئلة الامتحان النهائي

الكورس الثاني - الدور الثاني  
العام الدراسي 2022 - 2023  
للدراستين الصباحية والمسائية



الجامعة  
التجارة والاقتصاد  
المالية والمصرفية

المرحلة : الثالثة  
المادة : دراسات الجدوى المالية  
التاريخ : 11 / 9 / 2023  
الوقت : ساعتان

الخطوة : الإجابة من أربعة أسئلة فقط

السؤال الأول : اجب عن ما يأتي :

(12.5 درجة)

ماهي المخاطرة؟ وما هي تصنيفاتها وضح ذلك بمخطط ؟  
ماذا تعني عبارة ((التدفقات النقدية بدلا من الإيرادات والمصروفات)) ؟

(12.5 درجة)

السؤال الثاني :

إحدى الشركات الاستثمار بمشروع كلفة الرأسمالية 500,000 دولار , و تستعمل الشركة طريقة القسط الثابت في  
التقسيط , و تدفع ضرائب على الأرباح نسبتها 50 % , علما بأنه لا يوجد للمشروع اية قيمة للخردة بعد الاندثار , كما ان  
العائد المطلوب هو 15 % و من المتوقع ان يدر المشروع تدفقات نقدية كما يلي:

التدفقات النقدية قبل الضرائب والاندثار	السنة
100,000\$	1
100,000\$	2
150,000\$	3
150,000\$	4
250,000\$	5

تصح المنشأة بقبول لمشروع اذا تم تقييمه على اساس :

- مدة الاسترداد باستخدام طريقة الجمع التراكمي
- صافي القيمة الحالية
- دليل الربحية

(12.5 درجة)

السؤال الثالث :

مجموع أصول كل من الشركات A,B,C \$200,000 والربح قبل الضريبة \$40,000 لكل شركة اذا علمت ان :-

شركة A تمول أصولها عن طريق الأسهم بنسبة 100%

شركة B تمول أصولها عن طريق الأسهم بنسبة 50% والباقي عن طريق القروض

شركة C تمول أصولها عن طريق الأسهم بنسبة 25% والباقي عن طريق القروض

علما ان معدل الضريبة 50% ، وكانت فائدة القرض في حينها 6% ، وسعر السهم الواحد \$10

المطلوب :

كيف ستؤثر السياسات التمويلية التي تستخدمها الشركة على كل من نصيب السهم من الأرباح والعائد على حقوق الملكية

السؤال الرابع : اختر الإجابة الصحيحة لكل مما يأتي مع اجراء العمليات الرياضية أينما وجدت

1- المصروفات التي تغطي العناصر الضرورية للمحافظة على نمو المنشأة في الاجل الطويل هي:  
 ا- المصروفات الرأسمالية  
 ب - المصروفات التشغيلية  
 ج - كلا الخيارين  
 د - لا شيء مما ذكر (انكره)

2- اذا افترضنا ان لديك خيارين A, B . يحصل A على عوائد 15% من تكلفة الاستثمار الكلية ويحصل B على عوائد 4,300 \$ ، علما ان تكلفة الاستثمار الكلية 30,000 \$ وتم اختيار الخيار A هنا ستكون تكلفة الفرصة البديلة:  
 ا - 200 \$  
 ب - 500 \$  
 ج - 100 \$  
 د - لا شيء مما ذكر (انكره)

3- النقد المتحصل من القروض والتسهيلات المصرفية هو تدفق نقدي:  
 ا - خارج من الأنشطة الاستثمارية  
 ب - خارج من الأنشطة التشغيلية  
 ج - خارج من الأنشطة التمويلية  
 د - لا شيء مما ذكر (انكره)

4- قيمة الاستثمار نهاية السنة 13000 \$ لمبلغ مستثمر 11000 \$ متوقع حصوله على دخل 900 \$ سيكون معدل العائد:  
 ا - 17%  
 ب - 0  
 ج - 15%  
 د - لا شيء مما ذكر (انكره)

5- اذا كان  $R_e < i$  هذا يعني ان اثر الرفع المالي على المشروع :-  
 ا - يلعب الدور الإيجابي  
 ب - يلعب الدور السلبي  
 ج - غياب دور الرفع المالي  
 د - لا شيء مما ذكر (انكره)

1.32

0.757

السؤال الخامس :

تقوم شركة الواحة العربية بتنفيذ مشروع جديد بقيمة كلية 100,000 \$ وبمعدل عائد مطلوب 10% ولغرض توفير المال للمال للاستثمار اقترح المدير المالي مصادر التمويل التالية ووزع هيكل رأس المال في ضونها وكما مؤشر إزاء كل منها:

القيمة \$	التمويل
30,000	القروض
10,000	الأسهل الممتازة
20,000	الأسهل العادية
40,000	الأرباح المحتجزة

0.657

المطلوب :

استخرج متوسط التكلفة المرجحة لهيكل رأس المال ومن ثم قارن تكلفة التمويل بالعائد المطلوب وعلى هذا الأساس اتخذ قرارك بقبول او رفض المشروع

(ومنيما لكم بالنجاح)

1.52

رئيس القسم

مدرس المادة

د.م. سهام فالي

م.م. احمد سامي الديراوي

أ.د. منظر فاضل العبد



المادة: محاسبة تكاليف  
المرحلة: الثالثة  
التاريخ: ٢٠٢٣/٩/١٤  
الزمن: ساعتان

أسئلة الامتحان النهائي  
للعام الدراسي ٢٠٢٢/٢٠٢٣  
الكورس الثاني (صباحي ومسائي)  
المقرر: التكاليف

الجامعة العراقية  
كلية الإدارة والاقتصاد  
قسم العلوم المالية  
والمصرفية

ملاحظة: الإجابة عن أربعة أسئلة وتوزع الدرجات بالتساوي

١- أجب بصح أم خطأ لكل مما يأتي، مع تصحيح الخطأ إن وجد: [الإجابة عن ثمانية]  
١- يفضل توزيع المواد غير المباشرة على أساس عدد مستندات صرف المواد.  
٢- عند أجور الموظف الوقتي الأساسي في الأقسام الفنية تكاليف مباشرة عدا المكافآت التشجيعية.  
٣- معالجة أجور الوقت الضائع المسموح به كأجور غير مباشرة يؤدي إلى زيادة الأجور غير المباشرة.  
٤- تستخدم نظرية مراكز التكلفة تطبيقاً لمبدأ محاسبة المسؤولية.  
٥- عدم عدالة التوزيع باستخدام الطريقة الإجمالية بسبب إهمال الخدمات المتبادلة بين المراكز الانتاجية.  
٦- تجوب أجور الوقت الضائع غير المسموح به حسب علاقتها بوحدة الخدمة كمخسائر.  
٧- تتضمن الأجور المستحقة لمدير المصرف على حساب مراقبة تكاليف ادارية.  
٨- يعتمد حساب معدل الفوائد المدينة على مصادر الأموال.  
٩- تمثل تكلفة الأموال التكلفة الأولية في المصارف.

٢- البيانات التالية تخص راتب الموظف المسؤول عن مسك سجل حسابات العملاء في قسم الحسابات الجارية التابع لأحد المصارف التجارية لشهر أيلول، علماً بأنه موظف دائم:

١- عدد أيام العمل الفعلية خلال الشهر كانت ٢٤ يوم، وساعات العمل اليومية ٨ ساعات.

٢- الوقت المخصص لاستراحة العاملين يبلغ ساعة واحدة يومياً.

٣- حصلت توقفات في العمل لأسباب غير متوقعة بلغت مدتها خلال الشهر ٨ ساعات.

٤- معدل الأجر للساعة ٢٠٠٠ دينار، ومعدل الأجر الإضافي يزيد على معدل الأجر الاعتيادي بنسبة ٥٠%.

٥- تم تشغيل العاملين في القسم ساعات إضافية لمدة ١٢ ساعة خلال الشهر.

٦- تعالج أجور الوقت الضائع المسموح به كأجور غير مباشرة.

المطلوب // حساب الأجر الشهري المستحق للموظف، ثم تبويبه حسب علاقته بوحدة التكلفة.

٣- فيما يلي بيانات التكاليف الخاصة بمراكز التكلفة الفنية والمساعدة لأحد المصارف التجارية لشهر آب/٢٠١٨:

المخزن	الإعتمادات	شؤون العاملين	الحسابات الجارية	البيانات
٢٤٢٠	٦١٠٠	٢١٠٠	٤٠٠٠	مجت. غ. م
-	١٦٠	-	٢٠٠	ساعات العمل المباشرة
٢	٥	٦	٨	عدد العاملين
-	٤٠	٢٠	٥٠	عدد مستندات صرف
٤٠	٢٠	٤٠	٦٠	المواد المساحة

المطلوب // ١- توزيع تكاليف المراكز المساعدة على المراكز الفنية بالطريقة التنازلية.  
٢- ما مقدار التكلفة الإجمالية غير المباشرة لـ ١٠٠ خدمة، علماً بأن تقديم الخدمة الواحدة يستغرق ٨ ساعات في قسم الإعتمادات و ٣ ساعات في قسم الحسابات الجارية.

س ٤- فيما يلي البيانات المستخرجة من سجلات فرع احد المصارف التجارية لعام ٢٠١٤ :

أولاً- فوائد وعمولات مدينة ٣٦٠٠٠٠٠ ، فوائد وعمولات دائنة ٥٦٣٥٧٠

ثانياً- متوسط حسابات التسهيلات المصرفية : حسابات جارية ٢٤٠٠٠٠٠٠ ، سلف وقروض ١٢٠٠٠٠٠٠

كمبيالات مخصومة ١٧٠٠٠٠٠٠ ، مخصص التسهيلات والفوائد المعلقة ٣% من مجموع التسهيلات

ثالثاً- متوسط الودائع ١٢٠٠٠٠٠٠٠


رابعاً- تكاليف أخرى لقسم الودائع : رواتب وأجور ٢٨٠٠٠٠٠ ، تكاليف تسويقية وإدارية ٨٠٠٠٠٠


المطلوب // ١- حساب معدل تكلفة الودائع ٢- حساب هامش الفائدة .

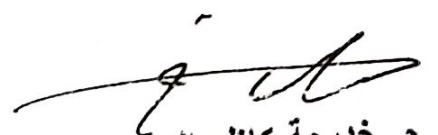
س ٥- فيما يلي البيانات الخاصة بأحد فروع المصارف التجارية لشهر آذار/ ٢٠٢١ :


المجموع	الحاسب الآلي	الودائع	تسهيلات مصرفية	الشؤون الإدارية	البيان
٥٦١٠	١١٢٠	١٩٠٠	١٠٨٠	١٥١٠	ت.غ.م خاصة
٣٦٠٠					م.صيانة
٢١٠٠			٣٠٠	-	اندثار المبنى
٩٠٠	-	٦٠٠	٧	١٠	ساعات العمل المباشرة
٣٠	٣	١٠٠	٥٠	١٠٠	عدد العاملين
٣٠٠	٥٠	١٠٠	٤	-	المساحة
١٥	٧	٤			عدد الأجهزة

المطلوب // اعداد كشف توزيع تكاليف المراكز الإدارية والمساعدة وفقاً لطريقة التوزيع الانفرادي .

  
أ. د. منتظر فاضل سعد  
رئيس القسم

  
م. حسام احمد الهاشمي  
مدرس المادة

  
م. خديجة كاظم التميمي  
مدرسة المادة

  
أ. س. الهادي



التاريخ: 2023 / 9 / 13  
الوقت: ساعتان  
المادة: المحاسبة المصرفية

أسئلة الامتحان النهائي  
الكورس الثاني / الدور الثالث  
2022 - 2023 الدراسات الصباحية والمسائية

المالية والاقتصاد  
المصرفية

ملاحظة: الاجابة عن اربعة اسئلة فقط لكل سؤال (12,5 درجة)

الاول: انكر باختصار اهداف النظام المحاسبي للمصارف ؟

الثاني: افترض أنك عميل لدى مصرف الرافدين فرع الصيادلة و بتاريخ 2022/6/1 قمت بربط وديعة لدى المصرف لمدة شهر بقيمة 3,000,000 دينار بفائدة سنوية 4% وتحسب وتضاف كل ثلاث اشهر  
المطلوب: تثبيت القيود المحاسبية اللازمة عند:

1- دفع الوديعة نقدا ؟ 2- سحب الوديعة نقدا عند الاستحقاق ؟ 3- تحويل المبلغ المستحق الى الحساب الجاري ؟

الثالث: الجدول التالي يمثل جدول التصفية والذي تم في غرفة المقاصة بالبنك المركزي وذلك يوم 2023/3/26

البنك المركزي العراقي  
مكتب المقاصة

جدول التصفية النهائية 2023/3/26

اليوم: الاحد

الجلسة الاولى

اسم المصرف	الشيكات المسحوبة لهم	الشيكات المستلمة عليهم	الرصيد	
			لهم	عليهم
الاتمان العراقي	6000	4000		
الاقتصاد للاستثمار	4000	11000		
الشرق الاوسط	3000	6000		
المنصور للاستثمار	9000	8000		
بغداد التجاري	4000	2000		
الاهلي التجاري	12000	8000		
المتحد للاستثمار	5000	4000		
المجموع	43000	43000		

المطلوب: 1- اكمل جدول التصفية النهائية باستخراج الرصيد ؟

1- قيود اليومية لدى مصرف الاقتصاد للاستثمار و مصرف بغداد التجاري ؟

2- اجراء القيود المحاسبية لدى البنك المركزي ؟

السؤال الرابع : فيما يلي البيانات الخاصة بالحساب الجاري المدین لشركة الفيحاء لدى المصرف التلمية خلال شهر نيسان 2022 علما ان شروط الحساب كالتالي :

المسحوبات	الایداعات
4/1 شيك بمبلغ 6000 دينار	4/8 شيك بمبلغ 9000 دينار
4/5 شيك بمبلغ 4000 دينار	4/13 شيك بمبلغ 11000 دينار
4/19 شيك بمبلغ 3000 دينار	4/23 شيك بمبلغ 16000 دينار
4/27 شيك بمبلغ 5000 دينار	

المطلوب : تصوير بطاقة حساب العميل (شركة الفيحاء) واحتساب الفائدة والعمولة فقط ؟

السؤال الخامس : في 2022/1/2 بدأ مصرف المتحد اعماله برأسمال قدره 25,000,000 دينار حيث تم: ايداع الربع المنصور بعد ذلك بدأ المصرف بالأعمال التالية:

- 1- تم سحب مبلغ قدره 2,500,000 دينار من البنك المركزي وايداعه لدى الخزينة الرئيسية.
- 2- تم تغذية صندوق المدفوعات بمبلغ قدره 1,000,000 دينار من الخزينة الرئيسية.
- 3- تم دفع مبلغ 350,000 دينار عن قيمة ايجار ومبلغ 150,000 دينار عن اجور ماء وكهرباء من صندوق المدفوعات.
- 4- تم اصدار امر تحويل مبلغ قدره 1,500,000 دينار من مصرف بغداد الى البنك المركزي وتم تنفيذ الامر.
- 5- تم شراء اجهزة حاسوب بمبلغ قدره 400,000 دينار من خلال شيك مسحوب على مصرف بغداد.
- 6- تم شراء اجهزة تكيف بمبلغ قدره 1,250,000 دينار من خلال شيكات مسحوبه على مصرف المنصور.
- 7- تم شراء سيارات بمبلغ قدره 750,000 دينار بشيك مسحوب على مصرف بغداد.

مقبوضات الصندوق الفرعي:	9- مدفوعات الصندوق الفرعي
250,000 دينار حسابات جارية	-
150,000 دينار ودائع توفير	-
50,000 دينار ودائع لأجل	-
	70,000 دينار كمبيالات مخصومة
	110,000 دينار حسابات جارية

المطلوب : تثبيت القيود المحاسبية اللازمة؟

((مع تمنياتنا لكم بالنجاح))

مدرس المادة

م.م احمد عبدالكريم الياسين  
م.د احمد رسن علوي

رئيس القسم  
أ.د منتظر فاضل سعد

السؤال الخامس



المادة : بحوث عمليات

المرحلة : الثالثة

التاريخ : ٢٦/٩/٢٠٢٣

الوقت : ساعتين

اسئلة امتحان النهائي الكورس الثاني (الدور الثاني) للعام 2022/2023

ملاحظة : الاجابة عن اربعة اسئلة فقط وتوزع الدرجات بالتساوي .

س1 // احسب كلفة النقل الاجمالية لجدول النقل الاتي مستخدماً طريقة أقل الكلف .

من \ الى	QS	اربيل	المودة	المنار
المركز الاول	150	2	1	5
المركز الثاني	170	8	10	11
المركز الثالث	130	3	4	6
المركز الرابع	120	13	20	9
Qs=Qd		220	180	170

س2 // اذا توفر لديك جدول النقل الاتي اجب عن النقاط ادناه مستخدماً طريقة الركن الشمالي :

من \ الى	QS	الرميلة	الضفاف	الخوراء
المخزن الاول	150	1	4	10
المخزن الثاني	100	3	8	13
المخزن الثالث	200	5	2	7
Qs=Qd		250	50	150

1. ان كلفة النقل الاجمالية من المخزن الاول فقط تساوي .....
2. ان الكميات التي يتم نقلها من المخزن الثاني الى الرميلة تساوي .....
3. ان كلفة نقل الوحدة الواحدة من المخزن الثالث الى شركة الخوراء تساوي .....
4. ان اول جهة طلب تنقل لها الكميات المعروضة هي .....
5. تبلغ كلفة النقل الاجمالية لجميع جهات الطلب .....
6. ان الكميات المطلوبة من جهة الطلب الثانية (الضفاف) تساوي .....



س3 // اذا توفرت لديك المعلومات الاتية عن أنشطة شركة اور التجارية :

الوقت المستغرق (ساعة)	المسار	النشاط
2	1 - 2	X <sub>1</sub>
5	1 - 3	X <sub>2</sub>
10	2 - 3	X <sub>3</sub>
4	2 - 4	X <sub>4</sub>
10	3 - 4	X <sub>5</sub>
8	3 - 5	X <sub>6</sub>

المطلوب : رسم شبكة الاعمال وايجاد المسار الحرج والوقت الكلي؟

س4 // أوجد الحل الاولي لمشكلة النقل الاتية مستخدماً طريقة الركن الشمالي الغربي ثم اوجد الحل الاكبر طريقة المربعات الخالية .

من \ الى	QS	التاجر الاول	التاجر الثاني	التاجر الثالث
المركز الاول	16	5	3	7
المركز الثاني	24	6	2	8
المركز الثالث	50	3	4	5
Qs=Qd		20	30	40

س5 // أوجد كلفة النقل الاجمالية لمشكلة النقل الاتية مستخدماً طريقة فوجل التقديرية :

من \ الى	QS	W <sub>1</sub>	W <sub>2</sub>	W <sub>3</sub>
A <sub>1</sub>	150	1	4	10
A <sub>2</sub>	100	3	8	13
A <sub>3</sub>	200	5	2	7
Qs=Qd		250	50	150

مع تمنياتنا لكم بالنجاح

أ.د. منظر فاضل  
رئيس القسم

د. العميد

م.م. عبدالله محمد راضي  
مدرس المادة

م.م. حسن حيدر عبدالكريم  
مدرس المادة



المرحلة الثالثة  
السادة : محفظة استثمارية  
التاريخ 17 / 19 / 2023  
الوقت ساعتان

أسئلة الامتحان النهائي / الكورس الاول / الدور الثاني

الاسم ..... الرقم ..... الشعبة .....

ملاحظة // الإجابة عن خمسة أسئلة فقط لكل سؤال 10 درجات.

س1: أ- ماهو مفهوم المحفظة الاستثمارية وماهي اهم الأصول التي تتكون منها؟  
ب- ماهي اهم اهداف إدارة المحفظة الاستثمارية، وضحتها بالتفصيل؟

س2: أ- ما هي اهم المؤشرات الأولية والتي تعطى للمستثمر انطباع اولي عن وضع الاقتصاد في المرحلة القادمة من اجل تحليل الاستثمارات ؟  
ب- ما هي اهم خطوات التحليل القطاعي للاستثمارات؟

س3: أ- تم شراء سهم بسعر (\$9) لشركة معينة في 2018/1/1 وفي 2018/12/31 تم بيعه بسعر (\$10.30) فإذا علمت ان الشركة وزعت أرباح (\$0.300) للسهم الواحد نهاية السنة. احسب عائد الاحتفاظ بالسهم المذكور.  
ب- ما هي اهم حالات الارتباط التي حددها ماركويتز بين العائد والمخاطر؟

س4: أ- يتوقع احد المستثمرين ارتفاع سعر سهم شركة معينة من (\$43) الى (\$50) السنة المقبلة فإذا كان عائد محفظة السوق (%11) وأذونات الخزينة (%5) ومعامل بيتا (1.5) بين إمكانية اتخاذ قرار شراء السهم من عدمه.  
ب- إذا كان بيتا B السهم (0.8) والعائد الخالي من المخاطر (%5) والعائد المتوقع على محفظة السوق (%13) فما هو العائد المتوقع على هذا السهم حسب نموذج تسعير الأصول الرأسمالية؟

س5: أ- ما المقصود بعقود الخيارات وماهو عقد الخيار الأمريكي وعقد الخيار الأوربي؟  
ب- في 2018/1/1 لدى احد المستثمرين محفظة أوراق مالية (100) سهم ويتوقع حدوث هبوط حاد في السعر السوقي للسهم الحالي والبالغ (\$80) لذلك اشترى بواسطة احد السماسرة عددا من عقود خيار البيع وبالشروط التالية:  
عدد الأسهم المشمولة بعقود الخيار (100) سهم وتاريخ التنفيذ 2018/6/30 وسعر التنفيذ (\$75) والعلاوة (\$2) لكل سهم.  
والمطلوب بيان الاجراء الذي سيتخذه المستثمر في ضوء الاحتمالات التالية:


- 1- ارتفاع سعر السهم في السوق بتاريخ التنفيذ الى (\$83)
- 2- انخفاض سعر السهم في السوق بتاريخ التنفيذ الى (\$76)
- 3- انخفاض سعر السهم في السوق بتاريخ التنفيذ الى (\$60)

س6: أ- ما المقصود بالعقود الآجلة ومتى تكون العقود الآجلة موجهة ومتى تكون سلبية؟  
ب- في 2018/1/1 تعاقدت شركة الالكترونيات الإنكليزية مع احدى الشركات الفرنسية على استيراد اجهزه بقيمة (100) مليون يورو على ان يسدد المبلغ بتاريخ 2018/6/30 ولغرض التحوط من مخاطر ارتفاع قيمة اليورو مقابل الجنيه الأسترليني في تاريخ تسديد قيمة العقد أبرمت الشركة الإنكليزية في 2018/1/1 عقود مستقبلية لشراء اليورو بقيمة (100) مليون حيث كان سعر اليورو الفوري مقابل الجنيه في 2018/1/1 هو (0.900) جنيه/ يورو وسعر التسوية المتعلق عليه في العقد هو (0.905) جنيه يورو، سعر اليورو مقابل الجنيه في تاريخ استحقاق العقد 2018/6/30 هو (0.950) جنيه / يورو  
المطلوب // بيان الفائدة التي ستحصل عليها الشركة الإنكليزية من العقد المستقبلي.

مع تمنياتي لكم بالنجاح

أ.د. منتظر فاضل سعد  
رئيس القسم ومدرس المادة

م.م. هذراء جاسب عبادي  
مدرسة المادة



ملاحظة: 1- الاجابة عن أربعة اسئلة فقط لكل سؤال ( 12.5 ) درجة .  
2- الاجابة بقلم الجاف الاسود او الازرق حصراً.

س 1 : حدد رمز الاجابة الصحيحة للجمل الاتية :-

1. من انواع الاسهم الدولية:-  
أ. اسهم اليورو      ب. ايصالات الايداع الامريكية      ج. ليس اي من الخيارين.
2. من النظريات التي تفسر الازمات المالية الدولية:-  
أ. نظرية الفقاعة      ب. نظرية مكونات رأس المال      ج. كلا الخيارين.
3. يقصد باليورو ودولار الحسابات والودائع الأجلة المقيمة :-  
أ. بالدولار والموجودة في أوروبا      ب. باليورو والموجودة في أمريكا      ج. كلا الخيارين.
4. تعد من وظائف الاسواق المالية الدولية:-  
أ. دعم الائتمان المحلي والخارجي      ب. وظائف توزيعية      ج. ليس أي من الخيارين.
5. لنفترض ان العراق، قد صدر نطف لسوريا 60 مليون دولار ،ستظهر في ميزان المدفوعات  
أ. فقرة دائن في حساب راس المال      ب. فقرة دائن في حساب النقد الأجنبي.  
ج. ليس أي من الخيارين.
6. انواع الازمات المالية الدولية:-  
أ. ازمة التوام      ب. ازمة ميزان المدفوعات      ج. كلا الخيارين
7. القروض المصرفية الدولية مقارنة بالقروض الرسمية تتسم كونها:-  
أ. شروطها أكثر سهولة وأقل صعوبة.      ب. سريعة الحصول عليها.  
ج. ليس اي من الخيارات اعلاه.
8. الاشكال الادارية للبنوك الدولية:-  
أ. بنوك المراسلة والوكالات      ب. الفروع البنكية والشركات التابعة      ج. كلا الخيارين.

س 2: س : حدد الجمل الصحيحة او الخاطئة بكتابة كلمة صح او خطأ وصحح الخطأ ان وجد:-

1. تكمن أهمية التمويل الدولي على مستوى البلدان النامية في توفير رأس المال اللازم للتنمية.
2. تسهيلات الموردين هي قروض قصيرة الاجل بين 6 اشهر وسنة واحدة.
3. تقسم مصادر التمويل الدولي غير الرسمية الى مصادر متعددة الاطراف وثنائية.
4. القروض المصرفية الدولية مقارنة بالقروض الرسمية تتسم كونها سهلة الشروط وسريعة الحصول عليها.
5. تعد مصادر التمويل الرسمية الثانية من القروض السهلة كونها طويلة الاجل ومنخفضة اسعار الفائدة..
6. يعد العجز في ميزان المدفوعات الامريكي احد مصادر تراكم الدولارات الاوربية .

7. السندات الاوربية هي سندات دولية يصدرها المقرضين الذين ينتمون لدولة معيلة خارج حدود دولتهم في اسواق رأس المال لدولة أخرى, وبعملة الدولة التي طرحت بها السندات .

8. الازمة المالية هي فترة زمنية تشهد انقلاباً حاداً في الاتجاه الصعودي في مؤشرات الأسواق المالية.

9. من اسباب الازمات المالية الدولية اضطرابات وتشوهات اسعار الصرف.

10. تفترض نظرية المباريات وجود علاقات سلبية بين قرارات المضاربين والمستثمرين.

س3: يقصد بالسندات الدولية هي السندات التي تصدر في بلد ما لصالح مقترض اجنبي . أجب عن ما يلي  
أ. وضح بالتعداد والشرح ايجابيات اسواق السندات الدولية .  
ب. بين ما هي اهم سلبيات السندات الدولية.

س4: يقصد بالاستثمار الأجنبي المباشر انتقال رؤوس الأموال الأجنبية للاستثمار في الخارج بشكل مباشر. أشرح أهم الآثار الايجابية والاثار السلبية المحتملة للاستثمارات الاجنبية المباشرة.

س5: اعطي توضيحاً للمفاهيم الاتية. (أختر ثمان فقط )

1. الاستثمار الاجنبي غير المباشر
2. نظرية الاحمق الاكبر
3. نظرية المباريات
4. ازمة اسواق المال (الفقاعة)
5. اهمية التمويل الدولي للبلدان المتلقية
6. فقرة السهو والخطأ
7. الاستثمار الاجنبي المباشر
8. مصادر التمويل الرسمية الثانية
9. السندات الاجنبية
10. سوق اليورو دولار

مع اطيب امنياتنا لكم بالنجاح والتميز

أ.د. منتظر فاضل الطاط  
رئيس القسم

أ.م. د. عقيل عبد محمد  
مدرس المادة

أ.م.د. راضي عبيد نعيمش  
مدرس المادة

أ.م.د. عبيد نعيمش

المرحلة: الثالثة  
المادة: سياسات  
التاريخ: 2023/ 9/ 10  
الوقت: ساعتين



كلية الإدارة والاقتصاد  
العلوم المالية والمصرفية  
الدراسة الصباحية والمسائية

أسئلة الإمتحان النهائي الكورس الثاني لدرجتي

ملاحظة/ الاجابة عن خمسة اسئلة فقط ( توزع الدرجات بالتساوي).

1/ اجب عن مايلي :

أ- عرف النظام الاقتصادي، ثم بين السياسات التي تهتم بالتأثير على المتغيرات الاقتصادية.  
ب- بين اثر السياسة النقدية في ميزان المدفوعات معتمداً على المخططات.

2/ اجب عن مايلي :

أ- هناك عدة اهداف تسعى السياسة النقدية الى تحقيقها وضح تلك الاهداف.  
ب- يعد سعر الخصم احد ادوات السياسة النقدية الكمية، بين الية عمله عند حدوث المشكلة الاقتصادية، ثم بين حالات او محددات عمله في ضبط الائتمان او الطلب عليه

3/ اجب عن ما يلي:

أ- عرف الادوات النوعية للسياسة النقدية، ثم بين انواعها .  
ب- عرف الاحتياطات المصرفية مبيناً انواعها.

4/ اجب عن مايلي:


أ- وضح من خلال المخططات الية ادوات السياسة النقدية الكمية في معالجة التقلبات الاقتصادية .  
ب- تعد عمليات السوق المفتوحة احدى ادوات السياسة النقدية غير المباشرة، وضحها ثم بين الية عملها عند حدوث المشاكل الاقتصادية .


5/ وضح اراء المدارس الكلاسيكية والكنزية والنقدية في الطلب على النقود مستعيناً بالمعادلات الرياضية.

س 1/6 اجب عن مايلي ( خمسة فقط )

- 1- المالية التعويضية ماذا تعني؟
- 2- نظرية التردد ماذا تعني؟
- 3- ما هو تأثير نسبة الاحتياطي القانوني في عملية خلق الودائع؟
- 4- هل يمكن للبنك المركزي رفع هوامش البيع بالتقسيط اثناء الكساد، ولماذا؟
- 5- هل يمكن استخدام الادوات الكمية كـ ( ادوات نوعية ) وكيف؟
- 6- ما المقصود بالدخل الدائم؟
- 7- لماذا يخفض سعر الصرف؟

مع دعائي لكم بالتوفيق والنجاح

  
أ.د منتظر فاضل سعد  
رئيس القسم

  
أ.د نعيم صباح جراح، م.د. ازهار عبداللطيف حسين  
مدرس المادة

  
أ.د منتظر فاضل سعد

# المرحلة الرابعة



المادة: المحاسبة الادارية  
المرحلة: الرابعة  
التاريخ: ٢٣/٨/٢٠٢٣  
الوقت: ساعتان

اسئلة الامتحان النهائي للفصل الدراسي الأول للعام ٢٠٢٢-٢٠٢٣

نقطة: الإجابة عن اربعة أسئلة فقط، توزع الدرجات بالتساوي بين الأسئلة. لكل سؤال 12.5 درجة

**السؤال الأول:** الإجابة بصح او خطأ مع تصحيح الخطأ ان وجد  
من المعلومات التي تقدمها المحاسبة الإدارية يمكن وصفها بأنها دقيقة وموضوعية.  
محاسبة الإدارة تعتمد المقياس النقدي عند معالجة المعلومات وتقديمها للاطراف المستفيدة.  
ازدادت قيمة المبيعات فان هذه الزيادة ستؤدي الى انخفاض عائد المساهمة.  
زيادة التكاليف الثابتة بنسبة 25% سيؤدي الى انخفاض نقطة التعادل بنفس النسبة.  
نقطة التعادل هي النقطة التي عندها اجمالي عائد المساهمة يساوي اجمالي التكاليف المتغيرة.  
خصائص المعلومات التي تقدمها المحاسبة المالية هي تاريخية تقديرية اما معلومات المحاسبة الإدارية فهي  
مستقبلية فعلية.

**السؤال الثاني:** قدمت إليك بيانات منتج معين في شركة البصرة الصناعية لشهر آذار/2014.  
البيع 100000 دينار / وحدة، الكلفة المتغيرة 75000 دينار / وحدة، التكاليف الثابتة الشهرية 2000000  
مستوى النشاط الحالي 15000000 دينار.  
1. ما مقدار صافي الربح الحالي للشركة مستخدماً تحليل التعادل وكشف الدخل.  
2. ما مقدار الزيادة في صافي الربح لو حققت الشركة مبيعات قيمتها 16000000 دينار.  
3. ما مقدار صافي ربح لو حققت الشركة مبيعات قدرها 155 وحدة.  
4. ما قيمة المبيعات التي يجب على الشركة تحقيقها لزيادة الأرباح الحالية للشركة بنسبة 10%.  
5. ما مقدار إجمالي عائد المساهمة عند نقطة التعادل.

**السؤال الثالث:** قدمت إليك البيانات المخططة لمنتج معين في شركة النهريين التجارية لشهر نيسان 2014،  
وعلى

مستوى 10000 وحدة.  
عائدات 9,000,000 دينار، التكاليف الثابتة 2,835,000 دينار شهرياً، نسبة عائد المساهمة 35%.  
1. ما مقدار صافي الربح الحالي للشركة دون إعداد كشف الدخل.  
2. ما مقدار صافي الربح الحالي للشركة مستخدماً كشف الدخل.  
3. ما مقدار الزيادة في أرباح الشركة الحالية لو حققت الشركة مبيعات قدرها 10,800,000 دينار.  
4. ما حجم المبيعات التي يجب على الشركة تحقيقها لتحقيق ربح قدره 1,102,500 دينار.  
5. طلب منك تقييم كل من مقترحي مدير التسويق والإنتاج بخصوص تحسين ربحية الشركة الحالية وكما يلي:-



أ. مقترح مدير التسويق: أقترح تخفيض سعر البيع بمقدار 50 دينار / وحدة، مما سيؤدي إلى زيادة قيمة المبيعات بنسبة 20% عن المبيعات الحالية للشركة، إلا إن ذلك يتطلب حملة إعلانية لمدة شهر بكلفة تقدر بـ 225000 دينار.

ب. مقترح مدير الإنتاج: أقترح تخفيض الكلفة المتغيرة للوحدة الواحدة، مما سيؤدي إلى زيادة عائد المساهمة إلى 365 دينار / وحدة، إلا إن ذلك سيؤدي إلى تخفيض حجم المبيعات بمقدار 1000 وحدة، ويتطلب تكاليف تشغيلية شهرية ثابتة بكلفة تقدر بـ 150000 دينار.

السؤال الرابع: قدمت إليك بيانات منتج معين في شركة النهرين الصناعية لشهر آذار/2014:-

سعر البيع 100 دينار / وحدة، الكلفة المتغيرة 75 دينار / وحدة، التكاليف الثابتة الشهرية 2,000,000 دينار مستوى النشاط الحالي 10,000,000 دينار.

1. ما مقدار صافي الربح الحالي للشركة مستخدماً تحليل التعادل.
2. ما مقدار الزيادة في صافي الربح لو حققت الشركة مبيعات قيمتها 11,000,000 دينار.
3. ما حجم المبيعات التي يجب على الشركة تحقيقها لزيادة الأرباح الحالية للشركة بنسبة 10%.
4. ما مقدار إجمالي عائد المساهمة عند نقطة التعادل.

السؤال الخامس: تنتج شركة المربرد وتبيع أجهزة هاتف، والتالي كشف الدخل عن السنة الأخيرة:

النسبة	الوحدة	الإجمالي	البيان
100%	60	1200000	المبيعات
?	45	900000	تكاليف متغيرة
?	15	300000	هامش مساهمة
		240000	تكاليف ثابتة
		60000	صافي الدخل

وترغب الإدارة في تحسين الربح لذلك طلب منك الآتي:

1. احسب نسبة هامش المساهمة
2. احسب نقطة التعادل للشركة بالوحدات والدنانير، استخدم طريقة المعادلة.
3. افترض إن المبيعات قد زادت بمقدار 400000 دينار وإن نمط سلوك التكاليف لم يتغير فبكم سيزيد صافي دخل الشركة (استخدم نسبة هامش المساهمة لإيضاح الحل)
4. إن الشركة ترغب في تحقيق صافي ربح في السنة القادمة لا يقل عن 90000 دينار، فكم وحدة يجب أن تبيع لمقابلة ذا الهدف؟
5. احسب هامش الأمان بالمبالغ وكنسبة مئوية.

أ.د. منتظر فاضل سعد  
رئيس القسم

م. بان توفيق نجم

م. حسام أحمد علي

أ.د. عبدالمجيد  
عميد الكلية

المرحلة : الرابعة  
المادة : القياس الاقتصادي  
التاريخ : ٨ / ٢٠٢٣  
الوقت : ساعتان



جامعة البصرة  
كلية الإدارة والاقتصاد  
قسم العلوم المالية والمصرفية  
الدراسات الصباحية والمسائية

أسئلة امتحان الكورس الأول للعام الدراسي 2022-2023 (الدور الثاني)

اسم الطالب..... الشعبة..... والرقم.....  
ملاحظة : الاجابة على خمسة اسئلة فقط ، وتوزع الدرجات بالتساوي.

1. لماذا تستخدم طريقة المربعات الصغرى الاعتيادية في تقدير معالم الانحدار الخطي البسيط والمتعدد ؟

2. أ- عرف OLS  
ب- الصيغة الرياضية لOLS  
ج- المعادلات الطبيعية لطريقة OLS في نموذج الانحدار الخطي البسيط ؟

3. ما هي الصيغ الاحصائية لكل من :  
- معامل التحديد المتعدد غير المعدل ( المصحح)؟  
- معامل التحديد المتعدد المعدل ( المصحح)؟

4. من البيانات التالية:

n	1	2	3	4	5
Yi	1	4	5	6	9
Xi	5	7	8	9	11

ستخرج الاتي : 1-  $[X' X]$   
2-  $(X' Y)$

5. من البيانات التالية:

n	1	2	3	4	5
Yi	1	4	2	3	5
Xi	2	4	7	5	7

ستخرج معامل الارتباط الخطي البسيط ؟ مع التعليق على النتيجة؟

6. اذا كانت نتائج تقدير معادلة الانحدار الخطي المتعدد على الشكل التالي :

$$\widehat{Y}_i = 6.26 - 0.38X_1 + 0.45 X_2$$
$$S_b^2 = (0.02) \quad (0.01)$$

المطلوب : اختبار المعنوية الجزئية للمعالم المقدرة  $\widehat{b}_1, \widehat{b}_2$  علما ان :  $t^c = 2.179$  ؟

تمنياتنا لكم بالنجاح

أ.د. منظر فاضل سعد  
رئيس القسم

م.د. طالب حسن  
مدرس المادة

م.د. طالب هاشم  
مدرس المادة



ملاحظة: الإجابة عن خمسة أسئلة فقط ، عشرة درجات لكل سؤال .

السؤال الأول: اختيار الإجابة الصحيحة .

- 1- الوديعة المصرفية هي : أ- الحساب ب- القائمة ج- المبلغ
- 2- الاعتماد المستندي غير القابل للإلغاء لصالح : أ- للمستورد ب- للمصدر ج-
- 3- السحب على المكشوف: أ- خطاب ضمان ب- حساب جاري ج- اعتماد
- 4- يطلق على خطاب الضمان: أ- الكفالة المصرفية ب- الائتمان التعهدي ج- كلاهما
- 5- من أقسام الاعتماد المستندي من حيث سداد قيمته: أ- اعتماد الاطلاع ب- اعتماد الوكالة ج- كلاهما
- 6- الشخص الذي يكون في كفالة المصرف الضامن هو: أ- الأمر ب- المستفيد ج-
- 7- عندما يكون الأمر والمصرف المحوّل والدافع والمستفيد محلي فالحوالة: أ- خارجية ب- داخلية ج- صادرة و واردة داخلية .
- 8- من مبادئ العمل المصرفي: أ- قبول ودائع ب- السرية ج- منح قروض
- 9- تسحب بالأجل : أ- الودائع لأجل ب- الودائع بأشعار ج- كلاهما صحيح .
- 10- يجب عند سحب المبلغ المودع في حساب الانخار تقديم : أ- شيك بالمبلغ ب- دفتر التوفير ج- جواز سفر

السؤال الثاني: صحح ما تحته خط (إذا لم يكن صحيحاً) .

- 1- عندما تكون ثقة المصدر والمصرف المراسل أو أحدهما بالمصرف فاتح الاعتماد عالية يتم اختيار الاعتماد غير المعزز .
- 2- الودائع المتحركة لا يجوز سحبها إلا بعد قيام المودع بإخطار المصرف قبل السحب بمدة معينة.

3- المستفيد من خطاب الضمان يكون في كفالة المصرف المغطي خلال مدة سريان الخطاب .

4- عرف قانون التجارة العراقي خطاب الضمان بأنه التزام خطي من قبل البنك بدفع مبلغ نقدي بناء على طلب الأمر لفائدة طرف آخر يسمى المستفيد .

5- تنفذ عملية التحويل المصرفي بواسطة مصرفين إذا كان حساب الأمر والمستفيد في نفس المصرف .

6- الودائع الثابتة هي مبالغ مودعة لدى المصارف من قبل أشخاص خلال مدة محددة وبنسب فائدة متفاوتة .

7- يجوز قبول الإيداعات في حساب التوفير بدون تقديم دفتر التوفير .

8- في حالة عدم وجود حساب للمصرف المحوّل لدى المصرف الدافع، يقوم المصرف المغطي بدفع قيمة الحوالة .

9- خطاب الضمان الصادر من مصرف عراقي بناء على طلب عراقي لصالح مستفيد عراقي مقيم في الصين يسمى خطاب ضمان محلي .

10- القيد عند إيداع مبلغ في حساب الوديعة الجارية من ح/ الصندوق الى ح/ الودائع لأجل (أو الودائع باخطار) .

السؤال الثالث: الإجابة عما يأتي:

أ- ما الفرق بين نوعي خطاب الضمان المغطي وما الفرق بينه وبين خطاب الضمان غير المغطي ؟

ب- متى يطلب المصرف الضامن من العميل تقديم كفيل ؟

السؤال الرابع: الإجابة عما يأتي:

أ- عدد أهم المستندات الواجب توفرها لإتمام عملية الدفع وفقاً لرسالة الاعتماد المستندي؟

ب- وضح أهمية الصك وماهي المعلومات الواجب توفرها فيه؟

السؤال الخامس: ماهي الحالات التي يخلق بها حساب التوفير ؟

السؤال السادس: حركة حساب توفير في مصرف الرافدين خلال سنة 2021 كما في الجدول ،

ماهو مبلغ الفائدة ورصيد الحساب عند نهاية السنة التقويمية ، علماً أن الفائدة % 6 ؟

التاريخ	الحركة
٣/١٠	إيداع 250000
٤/٢٢	إيداع 50000
٧/٣	سحب 75000
٨/١٥	سحب 50000
١١/١١	إيداع 30000
١٢/١	سحب 100000

نرجوا لكم التفوق .



أ.د. منتظر فاضل سعد

رئيس القسم



أ.م.د. علي قاسم العقبى

مدرس المادة



م.م. سارة عباس

مدرسة المادة



أ.م.د. عمار يوسف ضجر

معاون العميد لشؤون العلمية

المرحلة : الرابعة  
المادة : المصارف الاسلامية  
التاريخ 28/9 / 2023  
الوقت : ساعتان



كلية الادارة والاقتصاد  
قسم العلوم المالية والمصرفية  
الدراسات الصباحية والمسائية

أسئلة الامتحان النهائي / الفصل الأول / الدور الثاني

الاسم ..... الرقم ..... الشعبة .....

ملاحظة: الإجابة عن خمسة أسئلة فقط ونوزع الدرجة بالتساوي.

س1: تقدم المصارف الإسلامية العديد من الخدمات منها خدمة الاعتماد المستندي الا انه هناك اختلاف بينها في تقديم هذه الخدمة وبين المصارف التقليدية، تكلم عن الاعتماد المستندي وماهي اهم انواعه اذكرها بالتفصيل؟

س2: هناك العديد من المصادر للاموال في المصارف الإسلامية منها مصادر داخلية وأخرى خارجية، ماهي اهم المصادر الداخلية اذكرها بالتفصيل؟

س3: أ- من صيغ التمويل في المصارف الإسلامية المشاركة ، عرفها وماهي اهم أنواع المشاركات اذكرها بالتفصيل وبين خمسة من الشروط الواجب توفرها لصحة المشاركة.  
ب- ماهي اهم الفروق بين المضاربة المشتركة والمضاربة الفردية؟

س4: هناك العديد من الاختلافات بين المصارف الإسلامية والمصارف التقليدية، وضح هذه الاختلافات من خلال تنظيم جدول يوضح جميع هذه الاختلافات؟

س5: هناك العديد من مصادر الإيرادات في المصارف الإسلامية، اذكر اهم مصادر ايراد الخدمات في المصارف الإسلامية؟

س6: أ- ماهي اهم وظائف البنك المركزي اذكرها بالتفصيل؟  
ب- ماهي أهم اهداف الرقابة الخارجية وضحها بشكل مفصل؟

  
أ.د. منتظر فاضل سعد  
رئيس القسم

مع تمنياتي لكم بالنجاح

  
م.فايزة حسن مسجت  
مدرس المادة

1.5  


المادة : أخلاقيات البحث العلمي  
الزمن : ساعتان  
التاريخ : ٢٠٢٣/٨/٢٩



جامعة البصرة  
كلية الإدارة والاقتصاد  
قسم العلوم المالية والمصرفية

الدور الثاني

اسئلة الامتحان النهائي (الكورس الاوكل) للعام الدراسي ٢٠٢٢\_٢٠٢٣

ملاحظة : الاجابة عن اربعة اسئلة فقط

س١/ ما المقصود بالبحث العلمي ؟ وماهي خصائصه ؟ وضحاها .

س٢/ ١. وضح اهم الفروق بين الدراسة الاستطلاعية والوصفية والتشخيصية ؟

٢. ما هو البحث التجريبي ؟ وبماذا يتميز ؟ وماهي مصادره ؟ وضح ذلك .

س٣/ ١. وضح كيف يتم كتابة المصدر في قائمة المصادر . سواء كان المصدر كتاب او دورية او رسائل واطاريح او وقائع المؤتمرات .

٢. لكل بحث عنوان يعبر عن مضمونه بدقة . لذا فيناك اعتبارات يجب مراعاتها عند كتابة عنوان البحث . ماهي هذه الاعتبارات ؟ وضحاها . مع تصميم صفحة لعنوان بحث كمثال توضيحي .

س٤/ املئ الفراغات بما يناسبها من عبارات

١. من اهم أنواع تصنيف الاستبيان هي \_\_\_\_\_ و \_\_\_\_\_ و \_\_\_\_\_
٢. هنالك طريقتان لصياغة المشكلة هما \_\_\_\_\_ و \_\_\_\_\_
٣. تقسم البحوث اعتمادا على الأساليب المستخدمة فيها الى \_\_\_\_\_ و \_\_\_\_\_ و \_\_\_\_\_
٤. تتضمن أسئلة المقابلة عدة أنواع منها \_\_\_\_\_ و \_\_\_\_\_ و \_\_\_\_\_
٥. تتضمن منهجية البحث \_\_\_\_\_ و \_\_\_\_\_ و \_\_\_\_\_

س٥/ ضع علامة صح او خطأ امام العبارات التالية مع تصحيح الخطأ

١. تعتبر الوقائع والمؤتمرات من ضمن قائمة المصادر المستخدمة في البحث
٢. من خلال النتائج يتم قراءة الاستنتاجات وتكون العلاقة طردية بمعنى ان الاستنتاج يبني على النتيجة
٣. إذا كان المصدر في متن البحث يحتوي على اكثر من مؤلف يشار اليه اعتمادا على الطريقة الحديثة بالشكل الآتي (البدران وآخرون, ٢٠٠٥, ٨٠)
٤. تحتوي المقدمة على توضيح لموضوع البحث واهميته والأسباب التي دفعت بالباحث لاختياره
٥. لكل بحث عنوان معين يعبر عن مضمونه ويمكن من خلاله معرفة او فهم وجود مشكلة ويعني هذا ان العنوان هو الصياغة للمشكلة

رئيس القسم  
ا.د منتظر قاضل سعد البيطاط

مدرسة المادة  
م.د ازهار عبداللطيف حسين

مدرسة المادة  
م.د سهام غالي حمود

٤٤  
٥

المادة: المحاسبة الإدارية  
المرحلة: الرابعة  
التاريخ: 2023 / 8 / 5  
الزمن: 3 ساعات



أسئلة الامتحان النهائي الدور (الثاني)  
الكورس الثاني  
للعام الدراسي 2023/2022

جامعة البصرة  
كلية الإدارة والاقتصاد  
قسم العلوم المالية والمصرفية  
الدراسة الصباحية المسائية

المطلوب: الاجابة عن اربع اسئلة فقط، توزع الدرجات بالتساوي

1/ اجب بصح او خطأ مع تصحيح الخطأ ان وجد ( الاجابة عن خمس فقط)

- 1- حصة الوحدة الواحدة من التكاليف الثابتة تتناقص مع تزايد عدد الوحدات المنتجة.
- 2- تعد التكاليف المستقبلية التي لا تختلف بين البدائل تكاليف ملائمة لاتخاذ القرارات قصيرة الاجل.
- 3- ان التكاليف المتغيرة هي تلك التكاليف التي تربطها علاقة طردية مع مستوى النشاط .
- 4- التكاليف الملائمة الثابتة هي التكاليف التي يمكن استبعادها كلياً.
- 5- لاتتأثر الاحداث المستقبلية في الشركات بالتكاليف ومنها التكاليف الملائمة.
- 6- التكاليف الملائمة هي تكاليف نقدية وغير نقدية (الاندثارات) ومستقبلية فقط.

من 12/ توفرت لديك البيانات التالية عن احدى الشركات والمطلوب:

- 1- تحديد القسم الاضعف بين الاقسام الثلاث.
- 2- هل تتفق مع الشركة في الغاء القسم الضعيف. (باعتماد التحليل المتعارف عليه). علماً أن التكاليف التي لا يمكن تجنبها تشكل 15%.

البيان	القسم A	القسم B	القسم C
المبيعات / وحدة	5000	7500	8500
التكاليف المتغيرة	80	150	100
التكاليف الثابتة	400000	500000	550000
سعر البيع	150	250	200
نسبة عائد المساهمة	46.67	40	50

من 3/ تحتاج احدى الشركات الى 10,000 وحدة في السنة القادمة من قطعة معينة ، وكانت تكلفة انتاج هذه الوحدات كالتالي:  
مواد مباشرة 7 دينار / الوحدة، اجور مباشرة 3 دينار / الوحدة، تكاليف صناعية (60% ثابتة) 5 دينار / الوحدة ، تكاليف صناعية عامة موزعة 4 دينار / الوحدة، و يتوقع ان ترتفع اسعار المواد الخام في الفترة المقبلة بنسبة 20% وان ترتفع تكلفة الاجور الصناعية بنسبة 10% اما التكاليف الاخرى ستبقى على ما هي عليه. وتقدم مورد خارجي وعرض بيع هذه الكمية الى الشركة وبسعر 18 دينار للوحدة، وقد وجدت الشركة انه اذا تم قبول هذا العرض فانه يمكنها توفير مبلغ 10,000 دينار الاعباء الصناعية الثابتة و 10,000 دينار من التكاليف الصناعية العامة الموزعة بالاضافة الى امكانية تأجير الآلات المستخدمة في انتاج هذه الوحدات الى الغير بمبلغ 25,000 دينار . المطلوب: بوصفك محاسباً ادارياً هل تتصح الشركة بشراء الكمية المطلوبة من القطعة من مجهزة خارجي او تصنيعها داخل الشركة؟




من 4/ يمتلك مصنع الفيحاء لصناعة الاثاث طاقة لانتاج 1250 سرير سنوياً ويبلغ الانتاج الحالي للمصنع 1000 سرير  
تباع لتجار التجزئة بسعر 17500 دينار للسرير الواحد، تقدم احد الفنانين بطلب إلى إدارة المصنع لشراء 250  
سرير بسعر 15000 دينار للسرير الواحد وكانت تقديرات التكاليف الخاصة بآنتاج السرير الواحد وفق الآتي:


التفاصيل	تكاليف انتاج السرير الواحد
مواد ماثرة	8000 دينار
اجور مباشرة	2000 دينار
ت.ص.غ.م. متغيرة	2500 دينار
ت.ص.غ.م. ثابتة	1600 دينار
عمولة مندوبي المبيعات	900 دينار

وقد طلبت إدارة الفندق ادخال تعديلات على تصميم السرير وقدرت كلفتها بـ 1000 دينار للسرير الواحد ولاتحصل  
الطلبية الخاصة عمولة لمندوبي المبيعات.  
المطلوب: بصفتك محاسباً إدارياً في المصنع هل تتصح إدارة المصنع بقبول الطلبية الخاصة او رفضها.


س5/ توفرت لديك البيانات الآتية عن احدى الشركات لعام 2017 والمطلوب اعداد الموازنة التخطيطية للآنتاج. عدد الوحدات  
المتوقع بيعها في كل فصل 2000، 3000، 4000، 3000 على التوالي، وعلى فرض أن الشركة ترغب بالاحتفاظ  
بمخزون اخر المدة من البضاعة التامة يمثل 20% من المبيعات المتوقعة للفصل التالي، علماً أن المبيعات المتوقعة  
للفصل الأول من عام 2018 بلغ 2200 وحدة.  
المطلوب: اعداد الموازنة التخطيطية للآنتاج لعام 2017.

مع التحيات لكم بالمرقية والنجاح

  
أ. د. منتظر فاضل سعد  
رئيس القسم

  
أ. م. د. محمد جاسم محمد  
مدرس المادة

  
م. م. شروق خلف لطيف  
مدرسة المادة

س. الهادي  




أسئلة الامتحان النهائي الكورس الثاني

للعام الدراسي 2022-2023 دور ثانياً

الاسم ..... الرقم ..... الشعبة .....

ملاحظة : اجب عن خمسة اسئلة ، لكل سؤال (10 درجات).

س1: أ- وضح أهم الاختلافات بين العقود الأجلة والعقود المستقبلية، وفي أي الأسواق يتم تداولهما؟

ب- أحسب القيمة الذاتية لخيار الشراء لسهم شركة القنس إذا كان سعر التنفيذ 120 , 125 , 130 دولاراً علماً بأن سعر السهم السوقي لهذه الشركة هو 125 دولاراً.

\*\*\*\*\*

س2: اذكر أهم الإيجابيات والسلبيات للتعامل بإدرات المشتقات المالية في الأسواق غير المنظمة.

\*\*\*\*\*

س3: عرف عقود المبادلات، مع ذكر أهم أنواعها، وأسباب استخدامها.

\*\*\*\*\*

س4: أ- متى وأين بدأ التعامل بخيارات العملة لأول مرة؟ وما هي الخيارات المتاحة في الوقت الراهن على العملات الأجنبية؟

ب- اشترى مستثمراً خيار شراء على مؤشر (MMI) وإن سعر التنفيذ سير ديسمبر 990 بعلاوة قدرها (5) دولارات للوحدة الواحدة من المؤشر، ما هو صافي الربح للمستثمر إذا كان مضاعف المؤشر (100) وسعر الإغلاق للمؤشر بتاريخ التسوية 1000 نقطة؟

\*\*\*\*\*

س5: أ- ان اسواق المشتقات المالية اسواق عقود، وضح ذلك مع ذكر أهم الخواصر التي يتضمنها العقد.

ب- توفر اسواق المشتقات المالية بعض الفوائد التشغيلية، لذكرها بالتفصيل.

\*\*\*\*\*

س6: أ- اذكر أهم انواع عقود الخيارات؟ مع توضيح مفصل لأحد هذه الخيارات.

أ.د. منتظر فاضل سعد  
رئيس القسم

أ.م.د. محمد التوفيق

أ.م.د. مهدي صالح حنوش  
مدرس المادة

المرحلة : الرابعة  
المادة : ادارة المخاطر المصرفية  
التاريخ : ١١ / ٩ / 2023  
الوقت : ساعتان



جامعة البصرة  
كلية الادارة والاقتصاد  
قسم العلوم المالية والمصرفية  
الدراسات الصباحية والمسائية

## أسئلة الامتحان النهائي / الفصل الثاني الدور الثاني

الاسم ..... الرقم ..... الشعبة .....

ملاحظة: الإجابة عن خمسة أسئلة فقط وتوزع الدرجة بالتساوي.

- س1: ضع علامة صح او خطأ امام العبارات التالية مع تصحيح الخطأ ان وجد.
- 1- الخسائر الناتجة عن المعالجة الخاطئة للعمليات تعد نوع من انواع المخاطر التنظيمية.
  - 2- ان الضمان يهدف الى التحقق من مدى تنفيذ السياسة الخاصة بالاقراض للبنك.
  - 3- هناك اثر لتزايد حجم الموجودات خارج الميزانية في تقليل المخاطر التي تتعرض لها المصارف.
  - 4- يمثل الخطر الاستراتيجي في عدم احترام التشريعات التي تنظم النشاط المصرفي.
  - 5- مخاطر سعر الفائدة هي المخاطر الحالية والمستقبلية التي قد تتاثر بها ايرادات البنك ورأسماله نتيجة للتغيرات غير المواتية في حركة سعر الصرف.

- س2: عرف المخاطر التشغيلية وماهي اهم انواعها اذكرها بالتفصيل.
- س3- أ- ماهي الجوانب الاساسية لاتفاقية بازل I ، وماهي الاعتبارات التي تم الاعتماد عليها لتحديد كفاية راس المال في المصارف؟
- ب- ما هي الدعائم الاساسية لاتفاقية بازل II ، بينها بالتفصيل؟

- س4: أ- ما هي اهداف ادارة المخاطر المالية؟
- ب- ماهي اهم العوامل اللازمة لتحضير البيئة المناسبة والادوات المناسبة لادارة المخاطر؟

- س5: ما هي اهم المخاطر التي تواجه العمليات المصرفية الالكترونية، اذكرها بالتفصيل؟

- س6: أ- هناك اهمية مضاعفة للحوكمة في المصارف، ماهي بينها؟
- ب- تتكون اتفاقية بازل III من محاور مهمة، اذكرها بالتفصيل.

مع تمنياتي لكم بالنجاح

أ.د. منتظر فاضل سعد  
رئيس القسم

أ.م. فايزة حسن مسجت  
مدرس المادة

أ.م. فايزة حسن مسجت  
مدرس المادة



### اسئلة الامتحان النهائي / الفصل الثاني الدور الثاني

الاسم ..... الرقم ..... الشعبة .....

ملاحظة: الإجابة عن خمسة أسئلة فقط وتوزع الدرجة بالتساوي.

- س1: ضع علامة صح او خطأ امام العبارات التالية مع تصحيح الخطأ ان وجد.
- 1- الخسائر الناتجة عن المعالجة الخاطئة للعمليات تعد نوع من انواع المخاطر التنظيمية.
  - 2- ان الضمان يهدف الى التحقق من مدى تنفيذ السياسة الخاصة بالاقراض للبنك.
  - 3- هناك اثر لتزايد حجم الموجودات خارج الميزانية في تقليل المخاطر التي تتعرض لها المصارف.
  - 4- يمثل الخطر الاستراتيجي في عدم احترام التشريعات التي تنظم النشاط المصرفي.
  - 5- مخاطر سعر الفائدة هي المخاطر الحالية والمستقبلية التي قد تتاثر بها ايرادات البنك وراسماله نتيجة للتغيرات غير المواتية في حركة سعر الصرف.

س2: عرف المخاطر التشغيلية وماهي اهم انواعها اذكرها بالتفصيل.

س3- أ- ماهي الجوانب الاساسية لاتفاقية بازل I ، وماهي الاعتبارات التي تم الاعتماد عليها لتحديد كفاية راس المال في المصارف؟

ب- ما هي الدعائم الاساسية لاتفاقية بازل II، بينها بالتفصيل؟

س4: أ- ما هي اهداف ادارة المخاطر المالية؟

ب- ماهي اهم العوامل اللازمة لتحضير البيئة المناسبة والادوات المناسبة لادارة المخاطر؟

س5: ما هي اهم المخاطر التي تواجه العمليات المصرفية الالكترونية، اذكرها بالتفصيل؟

س6: أ- هناك اهمية مضاعفة للحوكمة في المصارف، ماهي بينها؟

ب- تتكون اتفاقية بازل III من محاور مهمة، اذكرها بالتفصيل.

مع تمنياتي لكم بالنجاح

أ.د. منتظر فاضل سعد  
رئيس القسم

س. ف. هادي

أ.م.فايزة حسن مسجت  
مدرس المادة

كلية الإدارة والاقتصاد

قسم العلوم المالية والمصرفية

الدراسات الصباحية والمسائية

المرحلة الرابعة

المادة : معايير مصرفية دولية

الوقت : ساعتان

التاريخ : ٢٠١٨/١٤/٧



اسئلة الامتحان النهائي / الكورس الاول

الدرج الثاني

ملاحظة : الاجابة عن خمسة اسئلة فقط :

س1 / من هم مستخدمي القوائم المالية ؟ وما هي احتياجاتهم من المعلومات ؟

س2 / تعتبر العوامل الاجتماعية من العوامل المؤثرة في النظم المحاسبية الدولية , وضح ذلك ؟

س3 / يتطلب المعيار المحاسبي الدولي رقم (1) تصنيف الموجودات الى متداولة عندما ينطبق عليه عدة حالات اذكرها بالتفصيل ؟

س4 / ماهي الخصائص النوعية للمعلومات المحاسبية ؟ عددها مع الشرح بشكل مفصل ؟

س5 / عرف القوائم المالية ؟ و وضح الهدف من القوائم المالية ذات الهدف العام ؟

س6 / ماهي الاسباب التي تقف وراء الاهتمام بالمحاسبة الدولية ؟

ا.د منتظر فاضل سعد

رئيس القسم

م.م زينب عبدالعزيز عبدالله

مدرس المادة

أ.م.د. عمار يوسف ضجر  
معاون العميد لشؤون العمية

م.م مرتضى عبدالحسين عبدالكريم

مدرس المادة



Course name: English Fourth Stag M&E vining study , Date: 20/04/2023, Total Mark: 50, Time: 2 H

Name \_\_\_\_\_ no: \_\_\_\_\_

Answer only four questions

Q1 : write just one ( 12.5 mark )

- A- Write an article (150 -200 words) about Wales . the location, Economy attractions and official languages .
- B- Write an article (150 -200 words) about Singapore . the location, Economy attractions and official languages .
- C- Write an article (150 -200 words) about Morocco . the location, Economy attractions and official languages .

Q2: Put in the blanks one of the words in brackets ( 12.5 mark )

- 1- Beaches made by people, not by nature. ( Man-made beaches– Historic city )
- 2- Coal, gas, oil. and fresh water are all examples of these . (National Assembly – Natural resources )
- 3- \_\_\_\_\_ a popular place to go on holiday . ( Tourist destination– Historic city )
- 4- A place with a long and important history. (Historic city – Man-made beaches )
- 5- The main language used in a country. ( Official languages – National Assembly )
- 6- He gives \_\_\_\_\_ the money . ( I – me )
- 7- Did you see Mohammed last week? yes, I saw \_\_\_\_\_last week ( hem – it )
- 8- \_\_\_\_\_ the official language is French, many people speak a little English . ( so – Although )

Q3 : Choose the type of word underlined ( 12.5 mark )

- 1- Took off. ( verb – adjective )
- 2- Dutch student has enjoyed ( pronoun – conj. )
- 3- The reason ( article – preposition )
- 4- Baggage handler ( noun – pronoun )
- 5- He apologized . ( verb – noun )
- 6- He banged ( verb – noun )
- 7- horrified. ( adverb – adjective )
- 8- Relatives . ( noun – pronoun )


**Q4 : Determine whether the statement is true or false : ( 12.5 mark )**

- 1- Asia is a large continent .
- 2- Morocco has beaches on the Atlantic Ocean.
- 3- Spain is south of France.
- 4- A castle is where you can go to see lots of different animals.
- 5- A lake is bigger than a sea.
- 6- Sydney is a very old city.
- 7- Russia is a small country.
- 8- A village is bigger than a town.


**Q5 : Choose any type of prefix that is appropriate for the following word : ( just 8 )  
( 12.5 mark )**

- 1- Appropriate . ( un - in )
- 2- Direct . ( in - im )
- 3- Experienced . ( un - ir )
- 4- Patient . ( im - in )
- 5- Relevant . ( ir - il )
- 6- Important . ( un - ir )
- 7- Expected . ( in - un )
- 8- regular . ( il - in )
- 9- Comfortable . ( in - un )

*Good Luck*

  
Assist Prof. Dr. Radhi Obaid  
Course instructor

  
Prof. Dr. Muntadar saad Albattat  
Head, Department of Finance

  
الس . 5



جامعة البصرة  
كلية الإدارة والاقتصاد  
قسم العلوم المالية والمصرفية  
الدراسة الصباحية والمسائية

المادة: التدقيق  
المرحلة: الرابعة  
التاريخ: ٢٠٢٣ / ٩ / ١٤  
الزمن: ( < ) ساعة

أسئلة امتحان الكورس الثاني  
الدور (... الثاني...)  
لعام الدراسي 2023/2022

ملاحظة: الاجابة على اربعة اسئلة فقط احسن الخط والاجابة والترتيب .....

- س1/ الاجابة بصح او خطأ مع تصحيح الخطا ان وجد: ( 12.5 درجة )
- 1- التدقيق علم إنشائي يبدأ بالقوائم المالية ويعود الى البيانات المثبتة في الدفاتر والسجلات .
  - 2- قدرة دليل الإثبات المستندي على الاقناع تعتمد على عدد الادلة التي يحصل عليها المدقق من الموظفين .
  - 3- في حالة التدقيق الجزئي التفصيلي يتم فحص جميع القيود لجزء من المنشأة .
  - 4- ليس من حق المدقق طلب الايضاحات في حالة كون السجلات غير كافية لإقناعه .
  - 5- من اهداف قواعد السلوك المهني تنمية روح التعاون بين المحاسبين والمدققين ورعاية مصالحهم المادية والمعنوية .
  - 6- تاريخ تكوين المدقق لرأيه في القوائم المالية في اي منشأة هو تاريخ الانتهاء من السنة المالية .

س2/ اجب عن احد الفرعين فقط : ( 12.5 درجة )

- 1 - تكلم بالتفصيل عن الفرق بين المحاسبة والتدقيق ؟
- 2 - عرف برنامج التدقيق ووضح انواعه ومحتوياته ؟

س3/ اكمل الفراغات التالية بما يناسبها لكل من للأسئلة التالية : ( 12.5 درجة )

- 1- في حالة تسجيل قيد اكثر من مرة في دفتر اليومية او الترحيل المتكرر له فهو يعتبر من الاخطاء .....
- 2- على المدقق ان يقوم بالافصاح عن الاسباب الجوهرية التي جعلته يعطي رأياً سلبياً وذلك في فقرة توضيحية تقع .....
- 3- من ادلة الاثبات الاكثر صلاحية واقناعاً للمدقق .....
- 4- قواعد السلوك المهني من حيث الجهة التي وضعتها تقسم الى ..... و .....
- 5- اذا كان الخطأ لا يصل الى المادية وقامت الادارة بتعديله فإن المدقق يعطي رأياً .....
- 6- في حالة عدم اتفاق المدقق مع الادارة حول قبول السياسة المحاسبية المختارة او ان طريقة تطبيق هذه السياسة لها تأثير قليل الاهمية في البيانات المالية فإنه يعطي رأياً .....




س14 عرف خمسا مما يأتي : ( 12.5 درجة )

نظرية الوكالة في التدقيق ، التدقيق الاختباري ، الاخطاء المتكافئة ، الضبط الداخلي ، تقدير المخاطر ، المصادقات ، سجل الملاحظات ، الفحص التحليلي التمهيدي


س15 باعتبارك مدققا للحسابات بين نوع الرأي الذي تراه مناسباً لتقرير التدقيق وموقع الفقرة التوضيحية للحالات التالية :

- 1- بعد مرور (4) اسابيع من تاريخ انتهاء السنة المالية اكتشفت ان عميل هام للشركة اعلن عن افلاسه ونظرا لان العميل قد صادق على رصيده المستحق للشركة بتاريخ اعداد القوائم المالية رفضت الادارة اغلاق الحساب والاعلان على المعلومة لا سيما وان رصيد هذا العميل يمثل 10% تقريبا من رصيد المدينين و 20% من صافي الربح قبل الضرائب .
- 2- لم تتمكن من الحصول على مصادقة خاصة ببعض الذمم المالية لكنك استطعت الحصول على ادلة مستندية بنبلة ذات مصداقية عالية تثبت صحتها .
- 3- تقوم شركة الديار بإظهار الممتلكات والمعدات بالقيمة السوقية والتي تزيد بشكل ملاهي وجوهري عن التكلفة التاريخية ، ووجدت أن هناك مبلغا ماديا وجوهريا لعقود ايجار طويله الاجل لم يتم رسملتها بالرغم من تحقق شروط الرسملة فاعتبرت هذا انحراف غير مبرر عن تطبيق المبادئ المحاسبية ، ولدى تدقيقك للقوائم المالية اتضح لك أن هناك بعض الاخطاء قد ارتكبت في تقييم بضاعة آخر المدة مما ادى إلى تقييم المخزون في 12/31 بمبلغ أقل من القيمة الحقيقية له ، وقد رفضت الإدارة الدراسة التفصيلية لمعرفة اسباب هذه الاخطاء وتأثيره الجسيم على القوائم المالية



أ.د. منتظر فاضل سعد  
رئيس القسم

لکم منا کل الموافقة والتجاح



م. بان توفيق التجم و م. حسام احمد  
مدرسا المادة





الاسم: ..... اسم المرحلة: ..... الدراسة: .....

ملاحظة: الاجابة عن خمسة اسئلة فقط ولكل سؤال 10 درجات.

س1: أ- ما هو الاختلاف بين الاستثمار والمضاربة والمقامرة، وضح ذلك بالتفصيل؟

ب- ما هي اهم مبادئ الاستثمار اذكرها بالتفصيل؟

س2: أ- ما هي اهم المحددات التي من شأنها زيادة او تقليل الاستثمار؟

ب- وضح الجوانب الاساسية التي تعالجها دراسة الجدوى الاولى.

س3: أ- اذا كانت القيمة الاسمية لآذن خزينة (\$10000) وقيمتها في السوق (\$9885.5) ولفترة استحقاق (90) يوم، حد عند فترة الاستحقاق لآذن الخزينة.

ب- اشترى مستثمر سندات تستحق بعد (10) سنوات وتحصل فائدة مقدارها (8%) قيمتها الاسمية (\$1000) وبسعر (\$950) علما بان الفائدة تدفع كل سنة مرة، احسب العائد لموعد الاستحقاق.

س4: أ- حققت احدى الشركات صافي ارباح لهذا العام بلغ (\$50000) في حين كانت ارباح الاسهم الممتازة (\$5000) وبلغ عدد الاسهم (100000) سهم والمطلوب استخراج نصيب السهم العادي من الارباح المحققة.

ب- سندات قيمتها الاسمية (\$1000) بفائدة (10%) تدفع كل 6 اشهر مرة، اشترى مستثمر بمبلغ (\$1150) واقتناها لمدة سنة كاملة قبض خلالها فوائد مرتين ثم باعها بمبلغ (\$1100)، احسب العائد لفترة الاقتناء.

س5: أ- ما المقصود بالمخاطر الغير منتظمة وماهي اهم عواملها، وضح ذلك بالتفصيل؟

ب- كيف يستخدم التباين والانحراف المعياري لقياس المخاطر الكلية، وضح ذلك مستعينا بالرسوم البيانية؟

س6: أ- ما هي الاهداف المطلوب تحقيقها في استراتيجية الاستثمار؟

ب- ما المقصود باستراتيجية النوع المحدد وكيف تشكلت؟

مع تمنياتي لكم بالنجاح

أ.د. مستنور فاضل سعد  
رئيس القسم ومدرس المادة

م.م. عذراء جاسب عبادي  
مدرس المادة